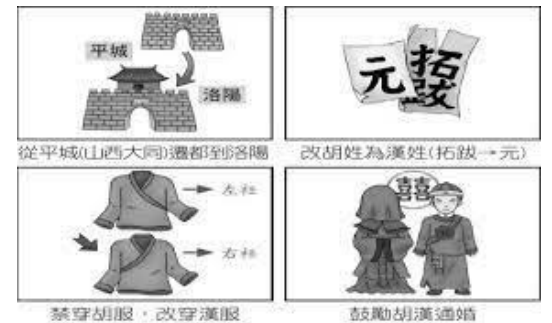


班級：八年 班 姓名： 座號：

一、基本選擇題：每題 2 分

1. 從中國的歷朝歷代的演變可以看得出，中國的文明發展最主要是從哪一個流域開始？ (A)長江流域 (B)珠江流域 (C)松花江流域 (D)黃河流域。
2. 在中國歷史的這個時代，一般的平民老百姓可以拜師學藝，憑藉自己的學識才能，可以當官，並受到國君重用，已經擺脫了只有貴族才可以接受教育的狀態。請問：這種轉變最早可能發生在什麼時代？ (A)西周初年 (B)東周時代 (C)秦朝 (D)漢朝。

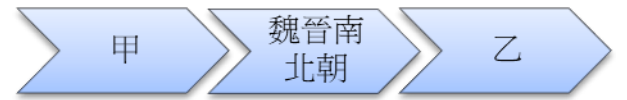
3. 右圖是中國某時期的漢化政策示意圖，由圖中的內容判斷這應該是哪個君主所推動的政策？ (a)漢武帝 (b)北魏孝文帝 (c)唐太宗 (d)秦始皇。



4. 唐代國力強盛，除了被視為東亞地區的國際盟主外，鄰近的國家也紛紛派遣使者前來學習、仿效唐代典章制度、文學藝術與宗教信仰。其中有一個位於朝鮮半島，深受唐代影響的國家，是下列哪一個？ (A)大食 (B)日本 (C)吐蕃 (D)新羅。

5. 《資治通鑑》記載：「王初併天下，自以為德兼三皇，功蓋五帝，乃更號曰皇帝。」上述史料中的「王」應是下列何人？ (A)周平王 (B)周幽王 (C)秦始皇 (D)秦穆公。

6. 冠吟正在講述中國歷史的發展，並在黑板上畫了簡易年表，請問，簡易年表中的甲乙分別為哪個朝代？ (A)甲：秦朝；乙：漢朝 (B)甲：漢朝；乙：唐朝 (C)甲：漢朝；乙：隋朝 (D)甲：秦朝；乙：唐朝。



7. 中國古代的歷史可概分為「傳說」與「信史」兩大部分，文字的發明與使用確立了「信史」時代的開始。請問：從考古發現可知，中國由何時開始進入「信史」時代？ (A)商代 (B)黃帝時代 (C)夏代 (D)三皇五帝。

8. 中國遷移到海外的華人，也會將文化向外傳播，稱為「文化擴散」。請問下列何者並非有關「華人」的文化擴散？ (A)加拿大有唐人街，可以吃到中式餐點 (B)新加坡的電影有時候會混著中文、閩南語 (C)美國每年國曆二月十四為情人節，會送小禮物給喜歡的人 (D)印尼有土樓風格的客家博物館，介紹客家人在印尼開拓、創業的歷史。

此人建議秦孝公徙木立信的故事，證明「誠信是立國之基」的道理。凡從政者必須牢記這一真理，切實做到「取信於民」。

9. 小華在中國成語典故中看到一則成語的典故如右，了解到此人改革成功之根本。這應是哪位人物？ (A)孔子 (B)商鞅 (C)墨子 (D)韓非。

10. 志明發現日本是一個深受中國文化影響的國家，日本長期與中國往來接觸，甚至影響日本歷史與文化的發展，日語中「大化革新」的意思就是偉大的變化。請問，關於大化革新的敘述何者正確？ (A)模仿中國小篆字體創造日本文字 (B)中國透過公主下嫁帶動文化交流 (C)目的在於學習唐朝律令制度 (D)最後導致日本併入中國版圖。

11. 附圖是中國著名的歷史建築，也是今日重要的世界文化遺產。古代興修此建築的主要目的為何？ (A)避免黃河改道造成氾濫 (B)防止塞外草原民族入侵 (C)阻擋蒙古沙漠持續擴大 (D)建立往東北移民的據點。



12. 中國幅員廣大，方言不計其數，但是能長期維持統一的局面，主要是秦代哪一項措施的結果？ (A)興建長城，使人民安居樂業 (B)統一文字，使各地人民溝通無礙 (C)行郡縣制，使地方聽命於中央政府 (D)創立皇帝名稱，使人民尊崇帝王。

13. 唐太宗曾說：「自古皆貴中華，賤夷狄，朕獨愛之如一。」請問：從唐太宗的談話內容中，最能彰顯唐代社會文化的哪一項特色？ (A)胡漢融合，兼容並蓄 (B)十年寒窗無人問，一舉成名天下知 (C)上品無寒門，下品無世族 (D)布衣卿相，貴族沒落平民崛起。

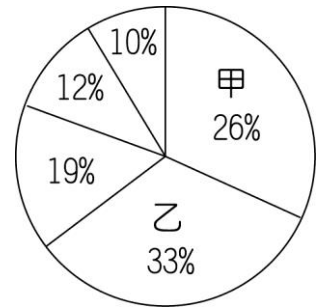
14. 小說《長安十二時辰》中的美食讓人垂涎欲滴，其中胡餅是出場率最高的食物，歷史上胡餅也深受歡迎，如《後漢書》所記「靈帝好胡餅……，京都貴戚皆競為之。」右圖為漢代疆域圖，請問胡餅應是從右圖中何處傳入中國？ (A)甲 (B)乙 (C)丙 (D)丁。



15. 老師暑假的時候到中國的某個地方去實察，看到了一種當地才有的獨有牲畜，名為「犛牛」，這種動物因應當地的氣候，身上有厚重的毛皮。因為又能背負重物，是當地不可或缺的交通工具。請問：犛牛這種動物，主要是出現在中國哪個地形區？(A)東北平原 (B)塔里木盆地 (C)青藏高原 (D)兩廣丘陵。

16. 有關於中國「一胎化政策」的敘述，下列何者錯誤？(A)出生率下降後，使得扶養比開始逐漸上升 (B)因實施一胎化導致新生兒的性別比偏高 (C)因實施一胎化導致人口總數下降 (D)目前已停止一胎化，放寬生育政策。

17. 右圖為「中國五大地形的圓餅圖」，圖上的甲、乙兩區代表哪兩種地形？(A)高原、平原 (B)平原、盆地 (C)盆地、山地 (D)高原、山地。



18. 中國東半部地區山脈大多呈現「東北—西南」走向；西半部地區大多為「東—西」走向。造成此種山脈走向的主要原因為何？(A)冰河侵蝕 (B)板塊擠壓 (C)火山噴發 (D)河川流向。

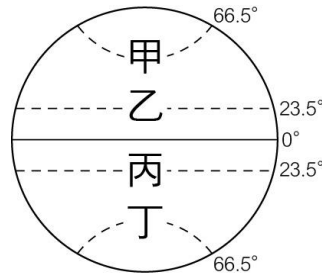
19. 中國地形複雜，從彩色地形圖上看，東半部多為綠色，愈往西顏色愈深，由淺黃色變成咖啡色。請問：這些不同的顏色是用來表示什麼？(A)氣候 (B)土壤 (C)高度 (D)植被。

20. 有關於中國「一胎化政策」的敘述，下列何者錯誤？(A)出生率下降後，使得扶養比開始逐漸上升 (B)因實施一胎化導致新生兒的性別比偏高 (C)因實施一胎化導致人口總數下降 (D)目前已停止一胎化，放寬生育政策。



21. 中國的西部地區，傳統上有不少行畜牧業的人，會住在蒙古包裡面，原因為何？(A)因需要四處移動，蒙古包易拆易搭 (B)因草原氣候炎熱，蒙古包通風良好 (C)因冬季寒冷，蒙古包可維持室內溫度 (D)因雨量較多，蒙古包可以防蟲防潮。

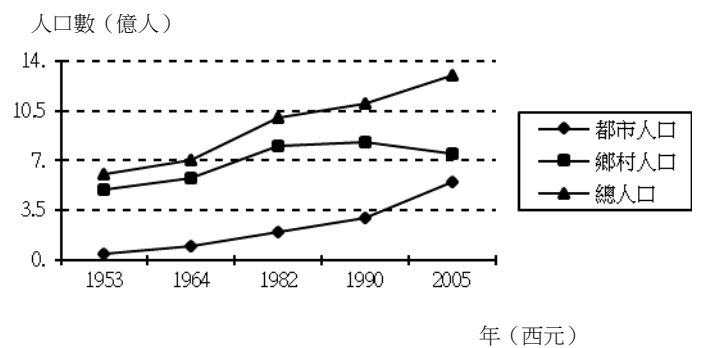
22. 右圖中哪條緯線經過中國領土，成為氣候分類的重要指標？(A)甲 (B)乙 (C)丙 (D)丁。



23. 河流是大地的動脈，中國河網稠密，俗諺云：「百川東流，同歸於海。」意思是指中國多數河流多是自西而東，歸流大海，造成此現象的主要原因為何？(A)東半部河運發達 (B)中國地勢西高東低 (C)東半部地區降水較豐 (D)東半部地區氣候較溫暖。

24. 季風氣候的產生是因海陸性質差異，導致海陸氣壓系統不同、風向不同，請問：冬季時氣壓及風向何者正確？(A)陸地氣壓低，風由海洋吹向陸地 (B)陸地氣壓低，風由陸地吹向海洋 (C)陸地氣壓高，風由陸地吹向海洋 (D)陸地氣壓高，風由海洋吹向陸地。

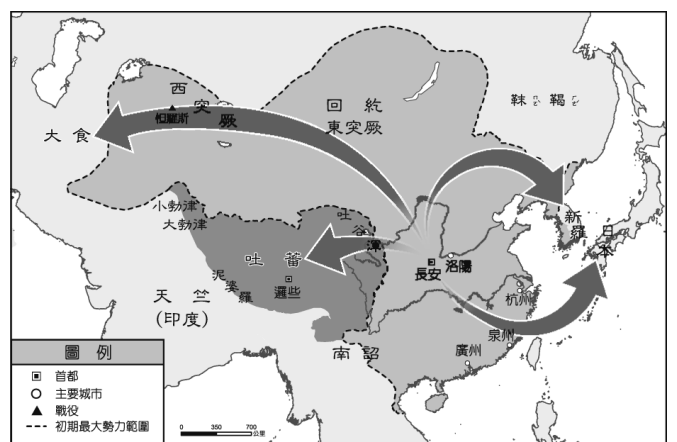
25. 附圖為「中國近五十年來，都市與鄉村人口的變化曲線圖」，由圖中可知下列何種現象？(A)人口擁入東南沿海 (B)扶養負擔加重 (C)都市人口增加較鄉村快速 (D)教育不普及，人口素質低落。



## 二、思考挑戰題：每題 2 分

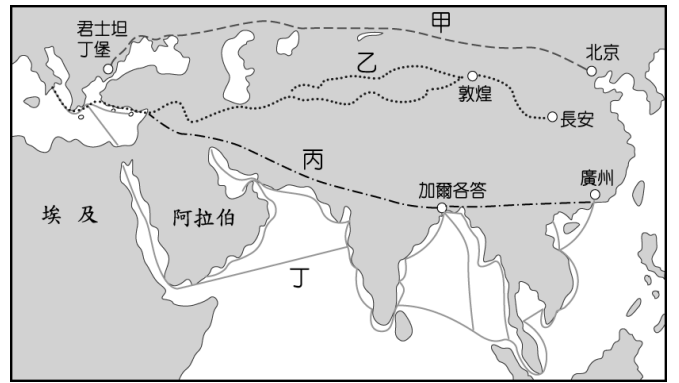
26. 嘉禾在《中國歷史地圖集》中看到附圖，若根據圖中箭頭的方向來看，此圖的標題應該為何？(A)西漢張騫出使西域圖 (B)秦國兼併各國示意圖 (C)佛教傳入中國示意圖 (D)唐文化向外傳播示意圖。

27. 宜庭正在製作有關唐代「東亞文化圈」的歷史報告，但是有個地方寫錯了。請你在下列選項中幫她找出這個錯誤？(A)影響的國家包含新羅、日本與越南等國 (B)唐代派遣使節到各國留學，學習他國長處 (C)佛教是東亞文化圈共同的元素之一 (D)中國文字、法律與制度對鄰近國家的影響很大。




28. 育群勤奮好學，飽讀詩書，欲入朝為官，施展抱負，為民謀福。請設想育群若是身處不同時代，下列何項敘述可能為育群受選拔任官的情形？(A)若他是西周時代的平民，可以出色的才能與謀略受到國君重用 (B)若他為漢代經學世家的成員，可透過九品官人法出任官員 (C)若他為曹魏時期的儒家學子，可能因獲得軍功受地方長官薦舉任官 (D)若他是唐代的平民子弟，可能透過科舉獲得出任官員的資格。

29. 李誠是漢代商人，他想要賣絲織品到國外去。請問：他可能走附圖中的哪一條路線？(A)甲 (B)乙 (C)丙 (D)丁。



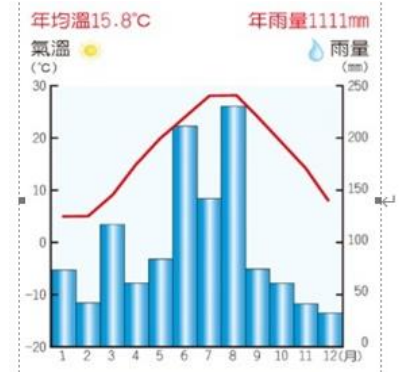
30. 迪士尼公司近年陸續推出許多真人版的電影，在戲院上映後大受歡迎。其中「美女與野獸」的女主角艾瑪·華森 (Emma Watson)，是因飾演「哈利波特」裡的妙麗而出道的。現實生活中從美國布朗大學畢業的她，聰慧果斷的新女性 形象早已深植人心。試問：英國出身的艾瑪·華森，如果想在一月時到中國旅遊，找一個可以享受冬日暖陽的地方，她應該選擇下列哪一個地點？(A)海南省 (B)新疆維吾爾自治區 (C)黑龍江省 (D)天津市

31. 宸佑在紙上練習畫了北緯 36 度的剖面圖如下圖，請問圖中？處，應該是下列哪一個地形區？(A)華北平原 (B)四川盆地 (C)東北平原 (D)塔里木盆地。



32. 宥詠把中國的各项資料地圖進行研究，發現西藏自治區的七月溫度較低，請推測是受到下列何項條件的影響最大？(A)雨量多寡 (B)日照不足 (C)緯度高低 (D)地勢高度。

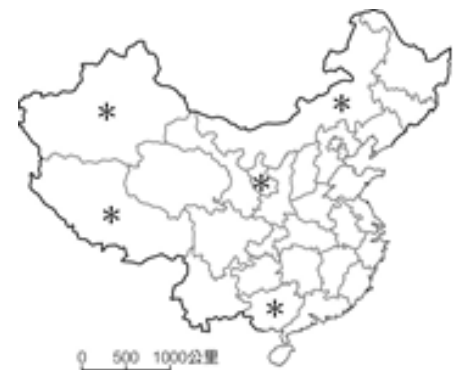
33. 在天氣預報局上班的亨錕，收到了某地的氣候資料，請根據下圖四的氣候圖判斷，這應該是何處的氣候圖？(A)溫帶季風的哈爾濱 (B)溫帶沙漠的哈密 (C)副熱帶季風的上海 (D)高地氣候的拉薩



34. 秦嶺、淮河為中國自然環境的重要分界線，形成南北兩地截然不同的區域特性。下列為南、北兩地之間的自然環境比較，其中何者最為正確？

	(A)地形	(B)氣溫	(C)雨量	(D)水文
秦嶺淮河以北	平原、盆地地形為主	一月分高於 0°C	年雨量大於 750mm	河水冬季易結冰
秦嶺淮河以南	平原、丘陵地形為主	一月分低於 0°C	年雨量少於 750mm	河水終年不結冰

35. 右圖為中國行政分區圖，圖中「\*」所示是屬於哪種層級的行政區？(A)省 (B)自治區 (C)直轄市 (D)特別行政區。



### 三、 綜合題組題：每題 2 分

(一) 西元前 720 年「周鄭」交質，指的是周王室和鄭國以王子狐、公子忽互相交換到對方國家當作人質，這件事也被當作周天子權威崩壞到無法遮掩的開端。請問：

36. 這件事也象徵著下列何種制度的崩壞？ (A)科舉制度 (B)中央集權 (C)封建制度 (D)九品官人之法。
37. 這件事之後，下列哪種狀況不會出現？ (A)知識不再被貴族壟斷 (B)平民參與政治 (C)各國國君追求富國強兵 (D)周天子勢力漸長。

(二) 請閱讀以下資料並回答問題：

資料一：魏晉南北朝後期盛傳：「上車不落則著作，體中如何則秘書」。意思是只要到了坐上車不會跌落的年紀，便可當著作郎（官名），會寫簡單的問候信，就可被選為秘書郎（官名），這是諷刺世家子弟可憑家世任官。

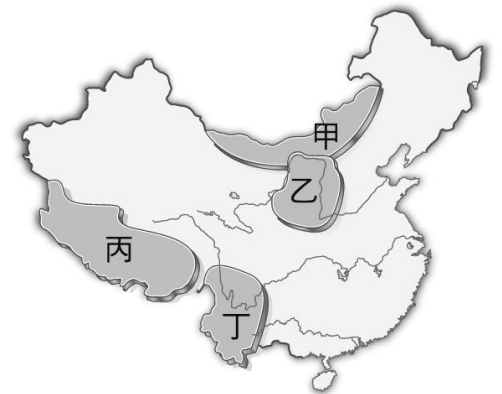
資料二：唐代初年，藉由科舉入仕的平民宰相，所占比例不超過一成；但到了唐代後期，其比例已經超過八成。

(參考資料：梁庚堯，中國社會史。)

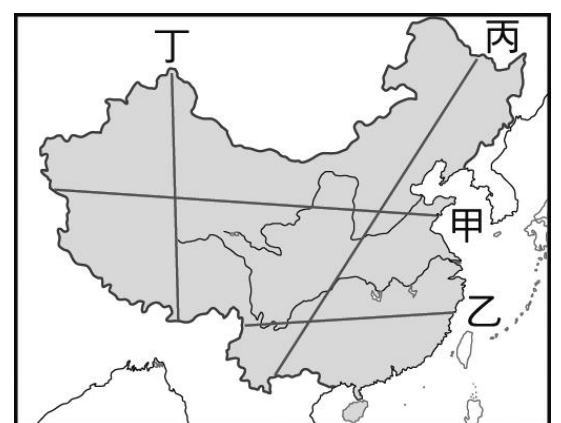
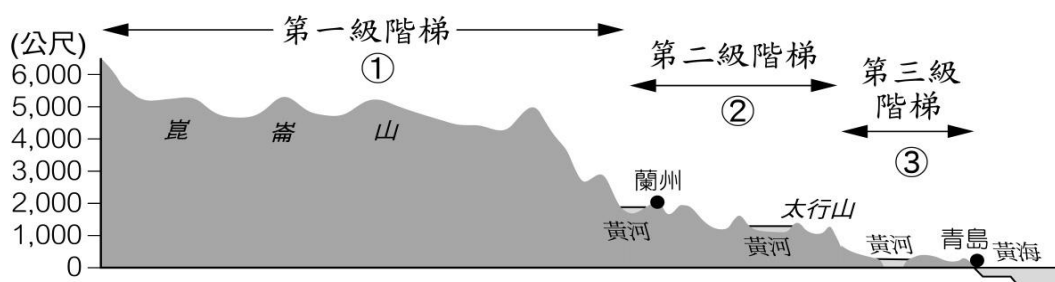
38. 資料一與何種選才辦法的推行有關？ (A)貴族世襲制 (B)推舉孝廉 (C)九品官人之法 (D)科舉制度。
39. 關於資料一至資料二所反映的社會變遷，下列敘述何者正確？ (A)封建體制逐步推行 (B)貴族制度逐漸確立 (C)世家大族日益興盛 (D)社會階層流動增加。

(三) 右為中國四大高原分布圖，每個高原的地理特色不同。請問：

40. 「地勢高峻，當地冰河發育完整，塑造出壯觀、多樣的冰河地形景觀。」上文所述位於圖中的哪個地區？ (A)甲 (B)乙 (C)丙 (D)丁
41. 「黃土高原高原面不平整，呈現千溝萬壑景觀。」上述地表景觀的形成原因為何？ (A)風力堆積 (B)流水侵蝕 (C)溶蝕作用 (D)板塊擠壓。



(四) 下圖為中國某一地形剖面圖。請問：



42. 圖中的①、②、③應是中國哪三個地形區？ (A)青藏高原、雲貴高原、珠江三角洲 (B)青藏高原、黃土高原、華北平原 (C)內蒙古高原、黃土高原、東北平原 (D)內蒙古高原、雲貴高原、長江中下游平原。
43. 此地形剖面圖最有可能是沿著右圖中的哪條線繪製而成？ (A)甲 (B)乙 (C)丙 (D)丁。
44. 由圖可知中國地形的特徵為何？ (A)地勢東高西低 (B)地勢起伏很大 (C)疆域面積廣闊 (D)山脈呈南北走向。

(五) 穿越小說中描述某城市：「○○是當時的首都，人們以欣賞牡丹為樂，酒館裡有胡人美女作陪，喝的是葡萄酒，吃的是胡餅，聽的是琵琶樂曲，看的是胡旋舞，往來客人有大食人、中國人、日本商人、西域胡人等等好不熱鬧。街上的婦女有做胡裝打扮的，也有身穿中國服飾的，也有那想引人注目的小姑娘畫上胡妝，整個臉抹的紅豔豔的。」請問：

45. 文中的狀況最可能發生在何時？ (A)秦朝 (B)漢朝 (C)隋朝 (D)唐朝。
46. 文中的○○是下列何者？ (A)廣州 (B)平城 (C)長安 (D)洛陽。
47. 當時社會對胡人文化採取包容態度很大原因為何？ (A)當時大食是全世界最強大的國家 (B)認為胡人文化較為優異 (C)統治階層具胡人血統 (D)胡人為重要貿易夥伴。
48. 在文中這座城市不可能看到下列何者？ (A)大食商人在清真寺中認真祈禱 (B)大食派遣的見習生在造紙工坊裡認真學藝 (C)玄奘在佛寺裡認真翻譯佛經 (D)日本的留學生在認真學習。

(六)請將下列人事物相配對。

(A)恒羅斯之役 (B)大化革新 (C)君子國 (D)文成公主
---------------------------------

49. 新羅。
50. 日本。
51. 吐蕃。
52. 大食。

**花蓮縣立吉安國中 112 學年度第一學期 八年級 社會科 期中考**

班級：八年 班 姓名： 座號：

**一、基本選擇題：每題 2 分**

1.	2.	3.	4.	5.	6.	7.	8.	9.	10.
11.	12.	13.	14.	15.	16.	17.	18.	19.	20.
21.	22.	23.	24.	25.					

**二、思考挑戰題：每題 2 分**

26.	27.	28.	29.	30.	31.	32.	33.	34.	35.
-----	-----	-----	-----	-----	-----	-----	-----	-----	-----

**三、綜合題組題：每題 2 分；49-52：每題 1 分**

36.	37.	38.	39.	40.	41.	42.	43.	44.	45.
46.	47.	48.	49.	50.	51.	52.			