

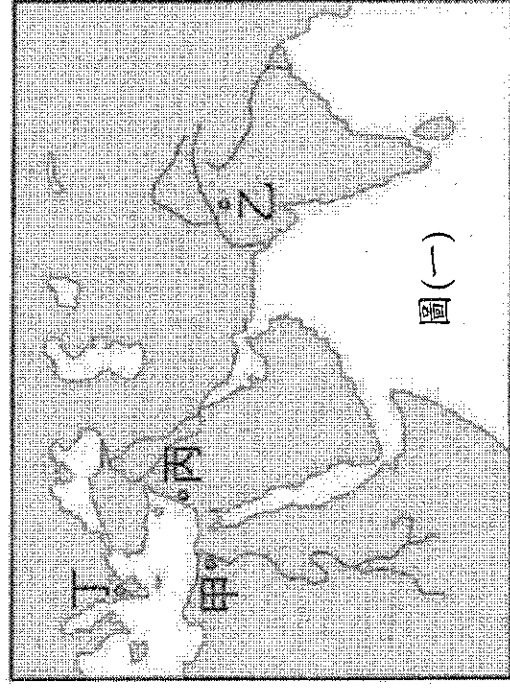
# 花蓮縣立吉安國民中學 112 學年度第 1 學期第一次段考九年級社會科題目卷

九年\_\_班 座號: \_\_\_\_\_ 姓名: \_\_\_\_\_

## 一、選擇題：每題2分，共90分。（作答方式：劃記答案卡）

- 1 家貓出現的最古老記錄是在西元前2494~2345年的埃及遺物中，那是一幅畫，畫中的貓戴著頸飾。因為當地的河流氾濫，隨著農業發展，貯藏多餘的農產品後，出現了偷吃倉儲穀物的鼠類，於是人們開始馴養捕食老鼠的利比亞貓，這就是家貓的開始。此氾濫的河流是何者？  
(A)黃河 (B)底格里斯河 (C)印度河 (D)尼羅河。
- 2 某一碑文刻有防守帝國疆域的軍團名稱，經研究確認碑文上的軍團分別駐紮於今日西班牙、北非、法國、希臘、土耳其等地。該碑文應是紀錄下列哪一帝國的軍團？  
(A)羅馬帝國 (B)波斯帝國 (C)亞歷山大帝國 (D)馬其頓帝國
- 3 過去曾經爆發的伊拉克戰爭，從電視上除了可看到的激烈戰況之外，還可以看到可怕的沙塵暴，令人很難相信這裡數千年前曾有燦爛的古文明，下列關於兩河流域歷史變遷之敘述，何者正確？  
(A)蘇美人最早在這裡興建大一統帝國 (B)希伯來人居住在伊朗高原的巴基斯坦地區，他們創立猶太教，以耶穌為唯一真神 (C)巴比倫人在天文學方面制定了陰曆，數學方面則有六十進位法 (D)蘇美人使用的楔形文字，成為兩河流域地區通行的文字。
- 4 《圖坦卡門-法老王的黃金寶藏特展》在台灣開展，阿德前往參觀，展覽有一座模仿金字塔的建築，內部以π文字刻著法老名字，他還見到各式的木乃伊。根據你的歷史知識及判斷，古埃及文明具有哪項宗教觀念與文化？  
(A)π文字是腓尼基文字 (B)埃及屬於一神信仰 (C)法老即以太陽神之子的身分統治人間 (D)太陽神象徵周而復始的再生力量。
- 5 阿斷曾在中國的史書上看到一段記載：「張騫的開通西域(約西元前二世紀)，首開東西接觸之橋樑，使東方的大漢帝國與西方文明得以展開接觸和交往。繼張騫之後，東漢班超(約西元一世紀末)也曾派使者出訪大秦，但因種種因素而折返未能實現。」請問：大秦應該是課本所學的哪個國家？  
(A)亞歷山大帝國 (B)羅馬帝國 (C)波斯帝國 (D)埃及帝國。
- 6 吉安國中圖書館舉辦「吉光悅讀史」的活動，現正來到「好書寶果」活動，只要攜帶希臘化文化時代的書，便可換取駁二消費折價券。請問下列哪一本書是希臘化文化時代的書呢？  
(A)《奧林匹克運動會的起源》 (B)《帕德嫩神廟建築史》 (C)《荷馬與木馬屠城記》 (D)《歐幾里德的幾何世界》。

7 下列是節錄自某地區文件的短文「噢！讚美您！偉大的神，正義與真理的主宰。我的主宰，我被帶到此地，來到您的面前，瞻仰您美麗的神采，並接受您的審判。…我不曾在神廟中褻瀆神靈，我不曾知道人不該知道之事，我不曾行惡，我不曾蓄意製造聲譽，我不曾對神口出惡言，我不曾對窮人施暴。」文中提到人們必須在神的面前接受審判，並且不斷的宣稱自己是無罪且純潔，顯示人死後靈魂須接受審判，通過審判者才能復活的觀念。這樣的觀念最可能流行於圖(一)的哪個地區？(A)甲 (B)乙 (C)丙 (D)丁。



圖(一)

- 8 這個宗教認為世上有善神與惡神相互對抗，但最後善神會戰勝惡神。此外，信徒必須確實遵守善思、善言、善行，一生皆應學習與跟隨這三項真理。關於這個宗教的說明，下列敘述何者正確？(A)這是古巴比倫人的宗教信仰 (B)這個宗教崇拜象徵大自然的太陽神 (C)此宗教諸神和人一樣，都有喜怒哀樂 (D)這個宗教崇拜象徵光明的火。
- 9 佛教與中國的淵源非常深遠，下列有關佛教發展的敘述，何者正確？(A)釋迦牟尼主張眾生平等，藉由修行脫離生死輪迴 (B)波斯帝國的阿育王提倡佛教，也派使者在伊朗高原推廣 (C)佛教的出現，是為了反對祆教的階級觀念 (D)佛教是目前印度人信仰最多的宗教。
- 10 本丸上網查古羅馬的資料，得到下列三項訊息：第一、元老院與執政官負責國家事務，但決策權由元老院掌握；第二、版圖橫跨歐、亞、非三洲，地中海成為其內海；第三、後期爆發政爭，獨裁者因而崛起。以上三項內容是古羅馬歷史上的哪個階段？(A)共和時期 (B)帝國時期 (C)王權時期 (D)王政時期。
- 11 水泥又稱混凝土，早在西元一世紀起，人們就懂得用生石灰、火山灰和磚石碎粒攪拌成建築材料。建築設計從此不受磚塊與石頭的限制，拱門、圓頂這類新形式的建築風格於是出現。最早使用混凝土，以建築成就聞名於世，並在歐洲各地留下許多建築遺跡的民族是哪一種人？(A)羅馬人 (B)希臘人 (C)蘇美人 (D)埃及人。
- 12 小潔觀賞電影「摩西十誡」，內容中提到：「摩西率領某個神的選民200多萬人離開埃及，神為了拯救他們，降下十災給埃及人，當摩西帶領這些人來到紅海時，摩西將權杖插入紅海內，結果紅海分成兩半，空出一塊陸地來，摩西便帶領子民走過紅海，等到埃及追兵追到紅海，紅海便又合在一起，讓這些追兵望塵莫及，這是某個神為這個民族所行使的神蹟之一。」請問：某個神的選民所指為何？(A)蘇美人 (B)巴比倫人 (C)腓尼基人 (D)希伯來人。
- 13 某出版社於2021年出版了一本名之為《○人-----一群被發現的祖先、一個不存在的民族》一書，

在書中提及：「此一民族居住於地中海東岸，善於航海與經商，往返於歐亞非三洲交界相鄰的地中海地區，成為文化傳播的重要推手。他們曾經將埃及的文字簡化後，傳到地中海一帶，成為西方拼音文字的基礎。」請問：○人應為下列的何人？

(A)希伯來人 (B)腓尼基人 (C)巴比倫人 (D)羅馬人。


14 周杰倫的歌曲《愛在西元前》中寫道：「古巴比倫王頒布了《漢摩拉比法典》，刻在黑色的玄武岩，距今已經三千七百多年，……我給妳的愛寫在西元前，深埋在美索不達米亞平原。幾十個世紀後出土發現，泥板上的字跡依然清晰可見。」根據歌詞內容判斷，以下何者有誤？

(A)此首歌詞描述兩河流域地區歷史文化 (B)巴比倫人重視法律契約的觀念  
(C)巴比倫人是世上最早發明文字的民族 (D)泥板上的字跡所指為楔形文字。


15 2020年由日本遊戲公司任天堂出品的《集合啦！動物森友會》，推出後即成為近年度最熱銷的遊戲。玩家可以蒐集各國藝術品。下圖為遊戲中出現的四樣藝術品，下列關於其出產文明之配對，何者有誤？ (A)甲：古羅馬文明 (B)乙：古希臘文明 (C)丙：波斯文明 (D)丁：古埃及文明



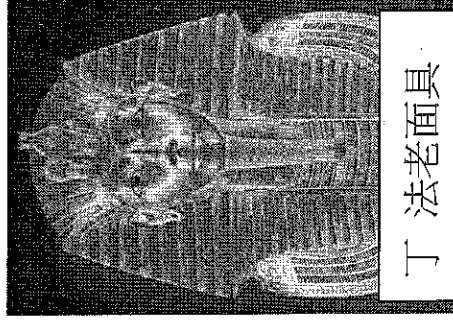
甲 母狼乳嬰像



乙 擲鐵餅者



丙 獅身石柱



丁 法老面具

16 雅典以民主聞名，其官員是藉何方式產生？

(A)陶片投票 (B)元老院決議 (C)皇帝決定 (D)抽籤決定。

17 蛋捲聽老師說，「中世紀」是從西元 476 年，到西元 1453 年。請問此二年各發生何事？

(A) 476 年：羅馬帝國分裂，1453 年：西羅馬帝國滅亡  
(B) 476 年：羅馬進入帝國時期，1453 年：羅馬帝國分裂  
(C) 476 年：亞歷山大帝國建立，1453 年：亞歷山大帝國滅亡  
(D) 476 年：西羅馬帝國滅亡，1453 年：東羅馬帝國滅亡。

18 四位同學準備希臘古典文化心得報告，下列哪一位同學講述的內容不符合史實？

(A)小勳：「荷馬史詩反映古代傳說，故事既豐富又充滿想像力。」  
(B)小千：「柏拉圖深度的人生哲學態度，讓我不斷思考與反省。」  
(C)小城：「四年一次的敬神祭典成為今日奧林匹克運動會起源。」  
(D)小婷：「亞里斯多德的《奧德賽》英雄故事，使人愛不釋手。」

19 欣賞完電影《三百壯士：斯巴達的逆襲》後，筱恩對「斯巴達」城邦充滿好奇，於是上網蒐集相關資料，下列哪一段敘述值得參考？ (A)以尚武著稱，男子好勇善戰 (B)波希戰爭後開啟希臘文化的黃金時代 (C)發源於義大利半島臺伯河畔 (D)男性公民符合條件者可參與政治運作。

20 亞歷山大驍勇善戰、才智過人，因而受封「大帝」稱號。其豐沛的感情世界，與令人惋惜的英年早逝，更成為後世戲劇、著作津津樂道的話題。下列關於亞歷山大大帝之成就，何者有誤？ (A)富國強兵，使馬其頓王國統一希臘各邦 (B)於帝國疆土上廣建希臘式城市 (C)文化兼容並蓄，鼓勵各民族通婚 (D)在帝國內積極推行希臘語及文字。

【題組】請回答21-22題：

在我們熟知的撲克牌中，J、Q、K 分別是以人物頭像作為卡牌圖案。此外，四種花色主要採用十六世紀法國所訂的標準，而且還將四張花色的K 分別對應四位國王。其中的方塊K 所對應的便是羅馬著名政治家—凱撒。

有別於其他花色的K，凱撒手中的是象徵羅馬執行官的儀仗——夾著斧頭的束棒，又稱為「法西斯」

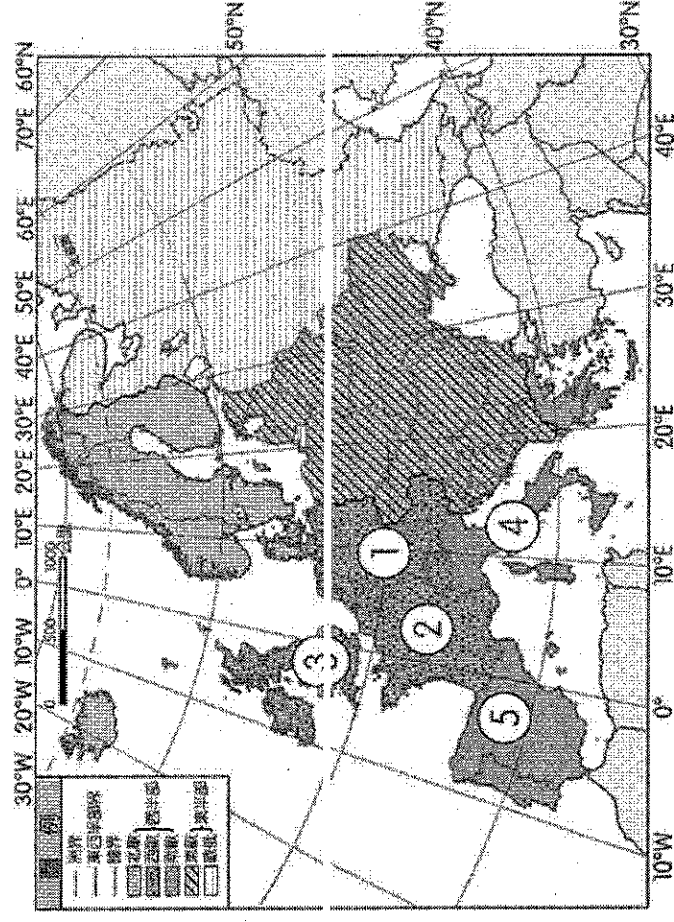
21 根據上述文中所提到的執政官凱撒，他所屬的羅馬政體應該是下列哪一個時期？

- (A)王政時期 (B)共和時期 (C)帝國時期 (D)東羅馬時期。

22 承前題，生活在這個時期的羅馬公民最有可能的生活樣貌是下列何者？

- (A)由於當地水資源缺乏，故當時的羅馬民眾很少洗澡 (B)羅馬的建築技術精湛，但目前歐洲仍未發現羅馬時代的建築遺跡 (C)當時已有羅馬最早的成文法，稱為「十二表法」 (D)該時期法律的特色是「以牙還牙，以眼還眼」的報復原則。


【題組】請回答23-25題：



圖(二)

23 歐洲國家數量眾多，各國面積及人口數差異大。除了俄羅斯外，歐洲人口最多的五個國家如圖(二)所示。下列關於這五國的敘述，何者正確？ (A)都位在歐洲大平原上 (B)全為溫帶海洋性氣候 (C)均為歐盟會員國 (D)皆面臨人口成長趨緩、老化的現象。

24 「這個國家擁有豐富的煤礦、便利的水運，加上實事求是的民族性，因此所生產的產品質地精良，品牌聲譽佳，圖(三)是該國在臺灣銷售情形相當良好的汽車品牌……。」請問：文中提及的國家位在圖(二)中何處？ (A) ① (B) ② (C) ③ (D) ④。



AVF 468

圖(三)

圖(四)

25 在歐洲只要看到汽車掛有 12 顆環形金星的車牌，如圖(四)，其「最可能」享有下列哪一種優惠待遇？ (A)自由通行於申根國家 (B)免繳交車輛的牌照稅 (C)各國加油均享優惠價 (D)車輛享有永久保固。

26 (甲)挪威大西洋沿岸 (乙)澳洲東北部海岸 (丙)希臘愛琴海沿岸 (丁)中國福建、廣東沿海。上述海岸的形成原因及性質，何者相同？ (A)甲、乙 (B)乙、丁 (C)丙、丁 (D)甲、丙。

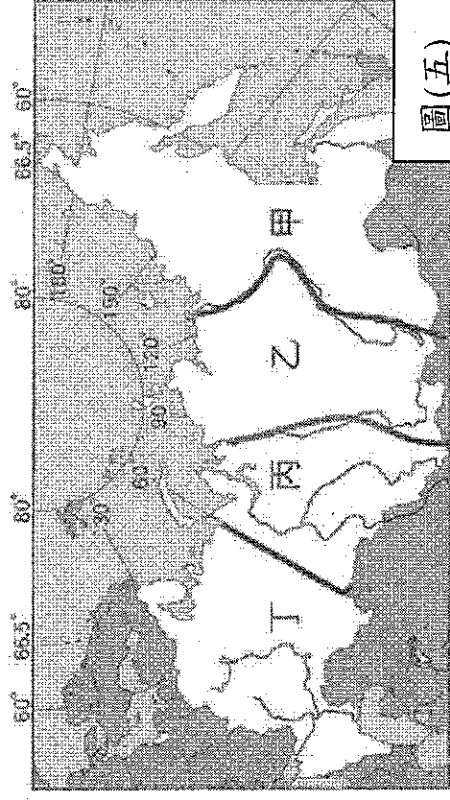
27 表(一)是歐洲三個都市的位置及氣候基本資料。根據其相對位置判斷，影響三個都市氣候差異的主要因素為何？ (A)地勢高低 (B)距海遠近 (C)河川流向 (D)日照時數。

都市	倫敦	柏林	華沙
經緯度	51°N, 0°	53°N, 13°E	52°N, 21°E
年溫差 (°C)	13.0	18.3	21.3
年降水量 (mm)	754	591	515

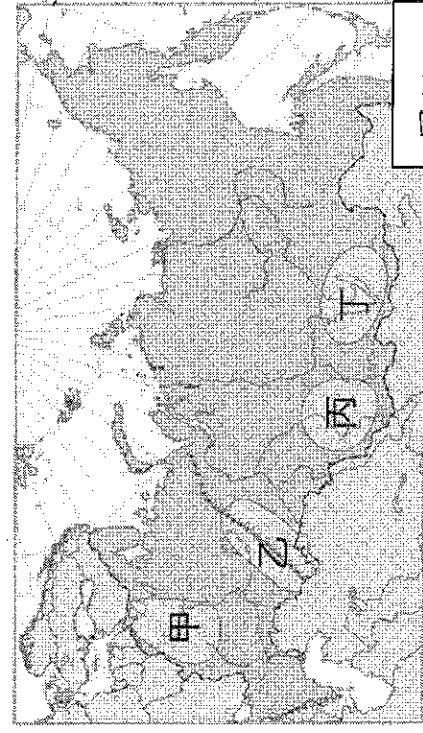
表(一)

28 「臺捷避免雙重課稅協定」已於2021年1月1日正式開始實施，該協定有助於增進臺灣、捷克雙方投資、貿易等合作。根據經濟部統計，捷克是臺灣在歐洲第四大投資國，鴻海、華碩等廠商均有在當地設廠投資。請問，臺灣廠商選擇捷克作為進入歐洲的據點，下列敘述何者為「非」？ (A)位置居中，介於西歐、東歐之間 (B)位於萊茵河出海口，海運便利 (C)為歐盟會員國，可享關稅減免 (D)提供較廉價卻又素質高的勞工。

【題組】請回答29-31題：



圖(五)



圖(六)

29 俄羅斯是全世界土地面積最大的國家，該國人口約有1.4億人，但分布極不平均，其中圖(五)中哪一地區的人口密度可能最高？ (A)甲 (B)乙 (C)丙 (D)丁。


30 猛瑪象(長毛象)的名字源於俄羅斯的古字「mammut」，意思是地下潛伏的事物。近年因為全球暖化影響，常常在西伯利亞的平原溼地、不受地形營力干擾的地層裡發現。根據上述，猛瑪象最有可能在圖(五)中何地被發現？ (A)甲 (B)乙 (C)丙 (D)丁。



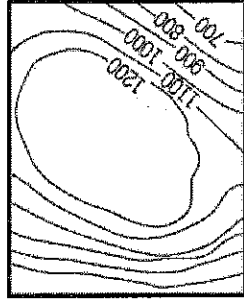
依據圖(五)若搭乘西伯利亞鐵路，由甲區至丁區，沿途所見的地形依序是下列何者？

(A)甲々々 (B)々々々 (C)々々々 (D)々々々。

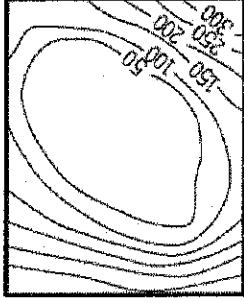
ㄅ



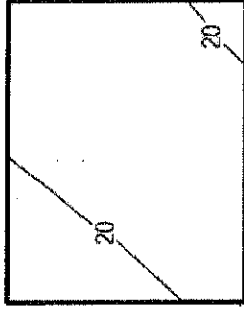
ㄆ



ㄇ



ㄏ



圖(六)是俄羅斯主要工業區的分布，請問：圖中哪一個工業區，擁有「水力資源豐沛」的優勢條件，成為該國境內新興的工業區？(A)甲 (B)乙 (C)丙 (D)丁。

「水都」威尼斯位於義大利北部的潟湖區，為著名的觀光勝地，可見到遊客悠閒的漫步在廣場與巷道間。但近年來該地區經常發生淹水，特別在冬季時，遊客必須穿著簡易鞋套走在架高的木棧走道上，形成特殊的景象。上述淹水的情況受自然環境及人為活動的影響日益嚴重，此「自然環境」影響最可能為下列何者？

(A)西風帶來水氣 (B)副熱帶高氣壓籠罩 (C)北大西洋暖流流經 (D)位居中緯度帶。

挪威的羅弗敦群島 (Lofoten Islands) 被譽為是世界上最美麗的島嶼，有「浮在海上的阿爾卑斯山」的美稱。儘管緯度高達  $68^{\circ}\text{N} \sim 69^{\circ}\text{N}$ ，但受到洋流影響，這裡的氣溫比同緯度地區高出許多，即使在零下低溫的冬季，海水也不會結冰。請問流經羅弗敦群島的洋流應為何？

(A)黑潮 (B)北大西洋暖流 (C)阿拉斯加暖流 (D)阿古拉斯暖流。

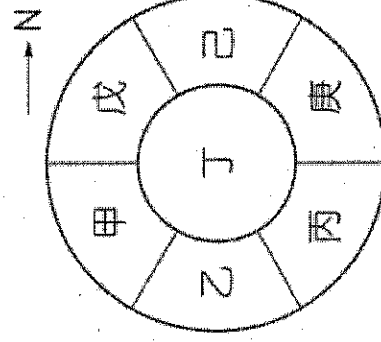
維生素D有「陽光維生素」之稱，因為照射充足的陽光，是人體合成維生素D的關鍵。對於住在中高緯度國家的居民，秋冬兩季更需額外補足攝取量，因此當地賣場常提供相關營養補給品。請問：下列哪一國家的10月~3月間，其維生素D補給品的銷售量可能會較多？

(A)希臘 (B)紐西蘭 (C)芬蘭 (D)西班牙。

脆脆為了家人的身體健康著想，於是上網找品質好的橄欖油入菜，但當貨送來的時候，卻被姐姐笑說買到假的橄欖油了，經追查之下才發現脆脆貪圖便宜，購買來路不明網站的油。請問姐姐最可能是看到下列哪一條資訊，而合理懷疑油是假的？(A)產地:西班牙 (B)地中海飲食的推薦用油 (C)來自伊比利半島的特級橄欖 (D)全年豐沛的雨量造就最優質的橄欖油。

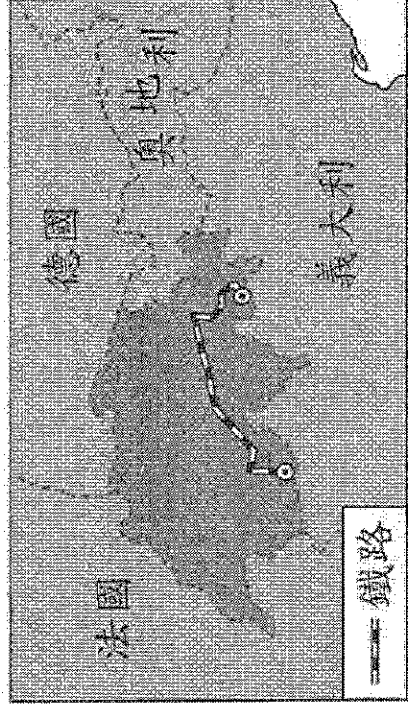
在西歐工業高度發展的同時，其平均每人排放廢氣量亦高達世界之冠，在此處廢氣的懸浮物質卻造成嚴重的環境問題。圖(七)為西歐某一都市的內部結構圖，考慮到風向，配合著工業發展以不影響居民健康為前提，則該都市的工業區應設於哪一部分，最不影響在地居民？

(A)甲戊 (B)乙丁 (C)丙庚 (D)戊己。



圖(七)

圖(八)是歐洲的某條鐵路的路線圖，請問此條鐵路主要位於哪一個地形區？(A)歐洲大平原 (B)阿爾卑斯山 (C)喀爾巴阡山(D)烏拉爾山。



圖(八)

- 39 歐洲大陸受到冰河作用的影響，形成獨特的地形景觀，也影響了當地的聚落發展。請問：下列地形景觀中，何者不是冰河作用所造成的？(A)峽灣 (B)冰蝕湖 (C)谷灣 (D)U型谷。
- 40 歐洲為世界唯一沒有沙漠的洲。請問：造成這種現象的因素中不包括下列何者？(A)多海灣、半島地形 (B)盛行風帶來水氣 (C)山脈南北走向 (D)北大西洋暖流流經。
- 41 在歐洲分區介紹中，有一則內容如下：「國家在生育、教育、就業、養老方面 給予充分支持和扶助，對於弱勢群體也提供了相應的福利。」此則內容應為歐洲哪一區的特色？(A)東歐 (B)西歐 (C)南歐 (D)北歐。
- 42 下列①~⑥ 是關於歐洲各個國家的描述：
- ① 南歐各國中，以義大利工業較發達，生產的跑車世界馳名
  - ② 德國擁有豐富的石油資源，工業產品以創新及高品質著稱
  - ③ 俄羅斯首都聖彼得堡，是俄最大港
  - ④ 荷蘭鹿特丹位多瑙河出海口，轉口貿易發達
  - ⑤ 法國的時尚產業在全球占有一席之地
  - ⑥ 義大利是歐洲文明與奧林匹克運動會的發源地
- 請問上述正確的是？(A)①⑤⑥ (B)①⑤ (C)②④⑥ (D)③④。
- 43 俄烏開戰，主要是俄羅斯擔心烏克蘭若加入了歐盟和北大西洋公約組織，會影響俄羅斯貨物出口的便利性，在總統普丁多次與烏談判未果後，遂下令發動對烏的戰爭。請問：俄羅斯阻止烏克蘭加入上述兩大組織的關鍵原因最可能為何？
- (A)烏克蘭豐富的礦產資源 (B)烏克蘭廉價的勞力優勢
  - (C)烏克蘭高度的工業技術 (D)烏克蘭臨海的地理位置。
- 44 小敏到歐洲某區旅遊，在IG發文分享：「這裡經濟發展較歐洲其他地區緩慢，物價消費明顯比較便宜，過去實施計劃經濟，人均GDP與工資都較歐洲其他地區低。」小敏應該是在哪一地區旅遊？(A)東歐 (B)西歐 (C)南歐 (D)北歐。
- 45 小智搭乘地中海郵輪由雅典出發，一路前往直布羅陀海峽。請問：他所經過的南歐三大半島依序為下列何者？(A)巴爾幹半島、伊比利半島、義大利半島 (B)伊比利半島、巴爾幹半島、義大利半島 (C)巴爾幹半島、義大利半島、伊比利半島 (D)義大利半島、巴爾幹半島、伊比利半島。

## 二、素養題：共10分。(作答方式：書寫答案並繳回答案卷)

請閱讀以下短文，回答問題：

夏日的艷陽酷暑，讓一天的工作更加疲苦。下班後，你想來點什麼？一罐冰涼清爽的啤酒，氣泡微苦，感官微醺，配上炸得酥脆的鹹酥雞，就是痛快！追劇、看球賽來個一瓶，朋友聚會來個一手，交際應酬先乾一杯再說啦！居家放鬆，平民買醉最入門的選擇：啤酒，沒有之一！

追源溯古，歷史上最一開始釀造啤酒的是住在美索不達米亞的蘇美人。對的，就是那個用楔形文字刻下了永遠的蘇美人。祭司、神殿、征戰、弓箭，是啤酒的從前。他們留下了發芽的大麥殘渣和裝有殘餘穀物粥的碗，那是用野生酵母自然發酵的，距今六千五百多年，就為古老文明帶來了陶醉的滋味。

陶醉到不能自己的，大概是古埃及人。最早在公元前 5,000 年左右，埃及人在莎草紙捲上記錄了啤酒的釀造過程，這可以說是全世界最老的食譜了。啤酒在埃及不只是日常生活的大眾飲品，也會用在宗教儀式祭神。上至神明，下至一般平民，都能感受啤酒帶來的美好，法老王還會指示釀造時間表並分發給大眾，作為其愛民如子的德政象徵。因為太喜歡啤酒了，在死後的世界也希望繼續享用，所以在埃及亡者墓穴的陪葬品中，常見到一桶一桶的啤酒，甚至是一整個啤酒釀造工作坊的模型都給它塞進去，94 狂。

不過鄰近埃及的希臘人、羅馬人反而比較喜歡喝葡萄酒。他們鄙視啤酒和喝啤酒的人，稱他們為野蠻人。這可不是單純的口味問題！在交通工具發達以前，地方的風土氣候幾乎直接決定了當地人對於飲食的喜惡。古希臘人將葡萄酒視為人類智慧的源泉。沒有適合種植大量穀物條件的希臘，對於啤酒始終興趣缺缺。

因此，「你喝什麼酒」就足以成為一種身分判斷。對於希臘人、羅馬人而言，嗜喝啤酒的人，當然就非我族類啊！是一群來自北方的野蠻人。

啤酒帶來的小酌確幸，消暑之餘，入口微甘，人喉帶苦，就像生活，再怎麼滑順的日常可能都帶點苦澀的尾韻。酒精帶來的醺然，讓我們可以暫時逃離日常的壓迫，追求一種微斷片的量眩感。從蘇美人到現代人，不那麼清醒的時候，好像就是最幸福的時刻。

文章摘錄自：吳宜蓉，〈人生好難，來一杯吧！古代人也無法抗拒的啤酒，到底是怎麼出現的？〉

一、「埃及人在莎草紙捲上記錄了啤酒的釀造過程」，請問是使用哪一種文字紀錄？（3分）

二、「法老王還會指示釀造時間表並分發給大眾」，請問這個時間表應該是參考什麼的？（3分）

三、就你所學的知識，請寫出為什麼希臘人、羅馬人喜歡喝葡萄酒，對啤酒興趣缺缺的原因。（4分）