

班級：八年 班 姓名： 座號：

(作答方式：劃記答案卡)

一、基本選擇題：每題 2 分

1. 隨著經濟的發展，中國對畜牧業的需求量與日俱增。然而 2017 年及 2019 年中國境內出現大規模的禽流感及非洲豬瘟等問題，與下列何種養殖方式的關係最大？(A)多樣化 (B)集約化 (C)環保化 (D)都市化。
2. 隨著經濟發展，農業面臨不同挑戰，中國為了確保糧食與肉類供應無虞，大量收購囤積全球穀物，此行為與下列哪項因素最不相關？(A)農業用水遭排擠 (B)耕地轉做他用 (C)農村人口幼齡化 (D)農業環境生態惡化。
3. 「法國的聖誕節是個非常『中國化』的節日，堆放在聖誕樹下的禮品都是中國生產的，而樹上懸掛的彩球、燈泡等裝飾品，甚至整棵聖誕樹也都來自中國。」上述現象與中國的何項特色最為相關？(A)農礦資源豐富 (B)邊境貿易活絡 (C)國內消費市場廣大 (D)勞工多且工資低廉
4. 中國龐大的消費能力，使阿里巴巴、淘寶等網路購物平臺在中國蓬勃發展，這是何種交易活動的興起？(A)批發 (B)零售 (C)量販店 (D)電子商務。
5. 楊振寧是美籍華裔的第一位諾貝爾獎得主（物理學），他曾來臺演講，指出：「西元 1600 年到 1900 年，中國抗拒引入西方科學。」「西元 1607 年《幾何原本》在中國只譯出前六卷，到西元 1857 年才譯出後九卷，前後相隔 250 年之間，歐洲不但誕生了近代科學，也徹底改變了生產方式。」請問：造成中國與西方的文化交流中斷，是因哪位皇帝驅逐傳教士離華所造成？(A)清康熙皇帝 (B)清雍正皇帝 (C)清乾隆皇帝 (D)明永樂皇帝。
6. 承上題，這位皇帝為何下令驅逐傳教士？(A)因傳教士涉及宮廷政爭 (B)因傳教士不願跪拜皇帝 (C)因傳教士大量介紹西方學術威脅中國傳統文化 (D)因傳教士竊取製作絲綢的技術。
7. 明代曾經實施「海禁」政策，其目的為何？(A)防禦蒙古 (B)防禦女真 (C)防禦倭寇 (D)打擊鄭氏。
8. 羅賓高中畢業後參加公務人員考試，後來她通過考試，在政府機關擔任行政人員。上述羅賓的行為，是行使下列哪一類型的人民基本權利？(A)平等權 (B)自由權 (C)受益權 (D)參政權。
9. 我國《憲法》規定：「中華民國人民，無分男女、宗教、種族、階級、黨派，在法律上一律平等。」此規定強調的是人民的何種權利？(A)參政權 (B)自由權 (C)受益權 (D)平等權。
10. 根據我國《總統副總統選舉罷免法》規定，總統任期是四年，連選得連任一次。蔡英文總統已是第二任期，因此 2024 年將不能再出來參選總統。請問，這是符合哪一種民主政治的特色？(A)民意政治 (B)法治政治 (C)政黨政治 (D)責任政治。
11. 蔡英文總統率團訪問我國在中南美洲的幾個友邦國家，展開名為「自由民主永續之旅」的外交活動。請問，總統出訪他國最主要是能達成國家存在的哪一種目的？(A)保衛國家安全 (B)發展社會福利 (C)促進經濟發展 (D)維持社會秩序。
12. 根據右方附圖中訪談的內容，最可彰顯出民主政治的哪一項特色？(A)法治政治 (B)責任政治 (C)政黨政治 (D)民意政治。
13. 附圖是某國最新的施政計畫，根據圖中內容，可以看出該國施政計畫想實踐的國家功能與下列哪一項最相關？(A)促進產業發展 (B)維護社會秩序 (C)重視社會福利 (D)傳承文化發展



15. 理學之所以能在元代之後繼續流傳，是因為元代政府實施了下列哪一項政策的助益？(A)推崇以經學傳家的世家大族(B)以《四書集注》作為科舉考試的標準(C)積極展開漢化運動(D)實行公平公正的科舉制度。

## 二、 思考挑戰題：每題 2 分

16. 永漢和朋友聊到現在的生活情況，很無奈地抱怨說：「那些政府官員都被韃子把持，財政都是那些眼睛奇怪顏色的外國人，我們這些生在珠江流域的漢人簡直比豬狗還不如。」請問：永漢生活的時代大約是何時？  
(A)聯金滅遼後 (B)燕雲十六州成為遼國領土後 (C)忽必烈滅南宋後 (D)聯蒙古滅金後。

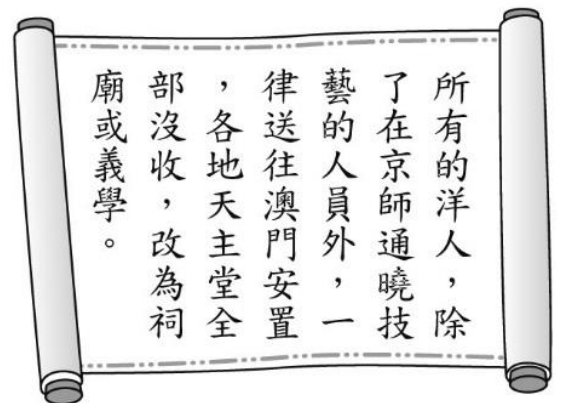
17. 「在此人統一蒙古各部落之前，蒙古草原上諸部並立，各部落間征戰不休，一直到此人才統一各部落；之後，此人和其繼任者對外展開多次軍事行動，橫掃歐亞大陸。」請根據史實分析，關於上述資料的說明，何者正確？ (A)此人為鐵木真，建立元朝，被稱為「成吉思汗」 (B)「展開多次軍事行動」最遠曾達北歐 (C)滅南宋後，完成中國的統一，定都於大興城 (D)蒙古是第一個統治整個中國的草原民族。



18. 右圖為某一朝代發行的寶鈔，雖然具備攜帶方便的特性，但當時的政府並沒有通貨膨脹的概念，因此濫印紙鈔，最後導致嚴重的通膨，進而使人民心生不滿，加速國家覆滅。這個朝代為何？ (A)南宋 (B)北宋 (C)元 (D)唐。

19. 阿輝是明代的船工，受雇於國際貿易船隊。請問：下列何者不是他的生活中會發生或聽聞之事？ (A)玉米、番薯等作物經由絲路傳入中國 (B)從中國出口的商品以瓷器、絲綢為主 (C)他的老闆和外國商人貿易都使用白銀貨幣 (D)當時的中國已出現許多專業市鎮。

20. 右圖為中國歷史上某一史事的相關內容，根據內文判斷，該史事最可能是下列何者？ (A)齊桓公尊王攘夷 (B)漢武帝獨尊儒術 (C)秦始皇焚書坑儒 (D)清世宗下令禁教。



21. 《吃一場有趣的宋朝飯局》一書的作者在该書一開始就建議讀者，想穿越的人最好穿越到宋代，不但食物比較好吃，娛樂也比以前多很多。請問：下列何者不可能是該書描寫的內容？ (A)在人口聚集的住宅區開店，清晨就開業，直到深夜才打烊 (B)到街上看說書人說書 (C)筵席上會出現占城品種的白米飯 (D)麻布仍是一般庶民服飾穿著唯一選擇。

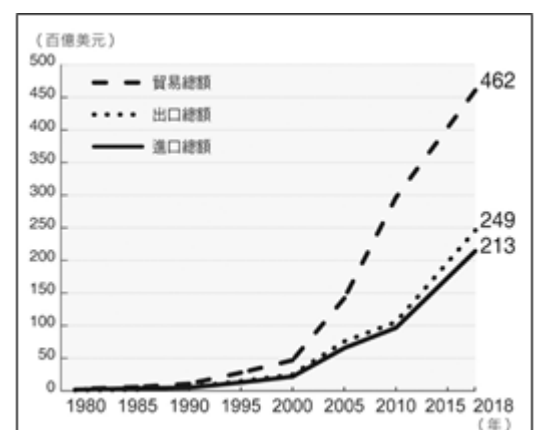
22. 小揚在《中國歷史故事》看到一則「陳橋兵變」的故事如下：「西元 960 年，北漢與遼國軍隊聯合南下入侵後周，後周某禁軍統帥□□□率兵北上抵禦。傍晚時行軍至陳橋驛(今開封東北)眾將領與士兵以黃袍加在□□□身上，擁立他為皇帝。之後□□□率兵回京，逼後周皇帝讓位，改國號為宋。根據史實判斷，「陳橋兵變」的典故，出自於何人篡奪政權成功？ (A)忽必烈 (B)鐵木真 (C)趙匡胤 (D)朱元璋。

時間	事件
1220年代	★擊敗中亞的花剌子模
1230年代	★消滅金國 ★占領今日俄羅斯、烏克蘭等地
1240年代	★攻入今日東歐地區

23. 老師在課堂上用表格講解某一主題，根據內容判斷，此主題最可能是下列何者？ (A)清帝國的版圖拓展 (B)蒙古民族的對外征服 (C)阿拉伯勢力的發展 (D)鄂圖曼土耳其的擴張

24. 右圖為中國的進出口貿易總額統計圖，中國在經濟改革開放後，逐漸成為世界主要生產基地後，進而帶動全國的經濟發展，30 年後中國成為各國兵家必爭之地的「世界市場」，貿易總額逐年攀升。請問：右圖中，中國從 1980 年開始，成為主要生產基地的「世界工廠」，而使出口總額大幅增加。請問：當時中國經濟發展的有利條件中，不包含下列何者？ (A)設立經濟特區 (B)國內資金多 (C)豐富的天然資源 (D)廉價的勞工。

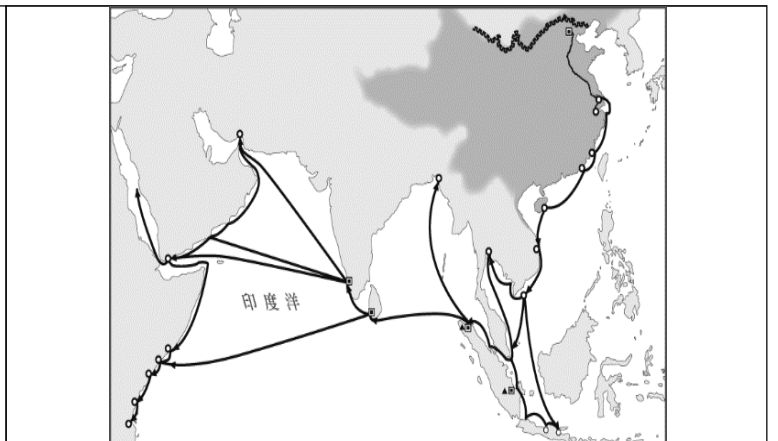
25. 承上題，若依右圖中的貿易數據變化加以判斷，中國經濟改革開放後主要的貿易狀況為何？ (A)貿易出超 (B)貿易平衡 (C)貿易入超 (D)進口為主。



26. 中國的經濟發展也帶來空氣污染的問題。車輛、工廠使用化石燃料後，常排放污染物到大氣中，形成微小顆粒，造成「霧霾」的空氣污染現象。霧霾不僅會危害健康與環境品質，還會向周遭擴散，北京、天津一帶即深受這種污染影響。而臺灣有時候也會受到中國的霧霾影響，尤其當天氣有何種變化時，臺灣的霧霾可能較為嚴重？(A)颱風侵襲 (B)梅雨季來臨 (C)乾旱發生 (D)寒流來襲
27. 北韓日前自平壤一帶往日本海方向發射一枚彈道飛彈，飛彈飛越日本領空，破裂成3截後落入北海道外海、太平洋水域。日本首相於第一時間表示「目前正在收集情報，但會做好萬全準備。」除此之外，日本防衛大臣也已獲首相授權下令，在發現北韓導彈飛越日本領空時，可以立即摧毀導彈。根據上述，北韓發射飛彈的行為會侵犯日本哪些國家組成的要素？(A)人民、領土 (B)主權、領土 (C)政府、人民 (D)政府、主權。
28. 文化部啟動「青年村落文化行動計畫」，透過青年的創意帶動村落文化發展，吸引許多令人驚喜的提案發想。有年輕人架設網站平台，試圖引進外部資源與人力幫助部落恢復消失的傳統文化；也有人嘗試用學校概念經營社區，結合在地專業職人，復興社區的傳統行業，為當地帶來新的動力。根據上文，可見政府在積極實現哪些國家存在的目的？(甲)秩序(乙)經濟(丙)文化(丁)福利(戊)安全，正確者為：(A)甲、乙 (B)乙、丙 (C)丙、丁 (D)丁、戊。
29. 「權力」Power 與「權利」Right 是現代民主國家的兩大軸心。請問：關於這兩者的敘述，下列何者正確？(A)「權利」是指強制、支配他人或團體的力量，例如政府治理國家的能力 (B)「權力」是指法律所保障人民應享受的生活利益 (C)主權是國家最高的「權力」，獨立自主，不受其他國家任意干涉 (D)人民有自由及參政等「權力」，不受國家的非法侵犯。
30. 美國某雜誌曾於日前發表「百大最佳國家排名」，臺灣並未列名其中。該雜誌認為臺灣並非「國家」，故未進行評比。若考量現代國家的構成要件，此次事件凸顯出我國目前在國際間，由於哪項國家構成要件的困境，而產生不被認同為國家的處境？(A)領土 (B)政府 (C)人民 (D)主權。

### 三、 綜合題組題：每題 2 分

(一)右圖為中國史上規模最大的出使團路線，根據記載，出使團船隻滿載要給各國的禮物，也裝備武器，如遇到抵抗則攻擊。請回答：



31. 從資料，我們可推論此主題的歷史人物為下列何人？(A)鄭和 (B)魏忠賢 (C)李自成 (D)吳三桂。
32. 這支出使團獲得的真正實質成就為下列何者？(A)明帝國與歐洲國家建立外交關係 (B)倭寇遭到打擊 (C)藩屬國家數量大減 (D)沿海居民紛紛移至東南亞發展。

(二) 1633~1854 日本實施鎖國，由於當時□□在出島有常駐醫生，一些日本政府高官往往在當地缺乏醫生時，向出島常駐醫生求助。有時候日本醫生無法解決的疾病，也會尋求出島上的醫生一起思考有無解決之道。請回答：

33. 請問，當時日本下令鎖國的原因是下列何者？(A)沿海倭寇猖獗，嚴重影響國防(B)天主教傳至日本，與當地文化產生衝突，引起社會不安(C)為反制中國在貿易上的壓迫(D)歐美各國以武力侵略。
34. 文中□□應該是何國？(A)西班牙 (B)荷蘭 (C)美國 (D)英國。

(三)日前有促銷活動帶起鮭魚改名風波，現行法律可以接受改名為鮭魚，但是當原住民族想要以族語拼音系統，將身分證「單列族名」，卻遭到戶政機關以違反姓名條例駁回。根據姓名條例的規定，原住民回復傳統姓名時，可將傳統姓名以漢字登記，或漢人姓名並列傳統名字羅馬拼音等方式。但因漢字無法明確傳達原住民名字的發音和意義，而造成誤解。由關心族名議題的大學生所組成的「以我的族名呼喚我」行動小組，認為現行規定有違反憲法疑慮，不僅違反憲法所保障的基本權利，也違背原住民族基本法和原住民族語言發展法的精神。

因此行動小組成員向戶政事務所上級機關內政部提出訴願，要求政府開放身分證單列族名、尊重原住民族語言與文字，以及呼籲社會大眾多理解原住民命名文化。內政部戶政司表示，族名單列涉及姓名條例或原住民族基本法修法問題，當初因考量到姓名使用須達到社會溝通和識別，才會採取並列方式，而訴願相關文件將依照法定程序處理。(資料來源：改寫自簡惠茹，原住民身分證不能單列族名民間提訴願學者批就是歧視，自由時報，2021/5/12)

35. 文中提到行動小組向戶政事務所上級機關內政部提出的訴願，是屬於人民的哪項基本權利？ (A) 平等權 (B) 自由權 (C) 受益權 (D) 參政權。

36. 上文中，「以我的族名呼喚我」行動小組認為現行規定違反哪項憲法保障的人民基本權利？ (A) 平等權 (B) 自由權 (C) 受益權 (D) 參政權。

37. 政府為因應失業問題，除了提供失業給付外，更積極協助失業者參與職業訓練，提供就業資訊，以增加他們就業的機會。上述政府的作為保障了人民的哪項基本權利？ (A) 財產權 (B) 平等權 (C) 工作權 (D) 自由權。

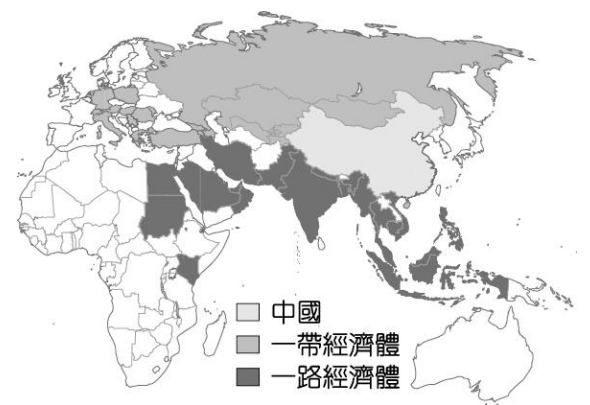
(四)吳先生是一名時事評論家，在自己架設的網站上發表研究專題文稿，他耗費半年時間蒐集資料並親自撰寫，內容在探討全球貿易與我國扮演的角色，日後準備交予出版社集結成書上架販售，但某媒體卻在未經過允許下，將網站內文章擅自下載、廣為流傳。吳先生認為媒體已對他的權益造成侵害，使他原本可因賣書獲得的金錢利益大為減少，因此決定依《著作權法》規定，向法院提告。請問：

38. 吳先生的發表行為，屬於我國《憲法》保障人民的何項基本權利？ (A) 秘密通訊自由 (B) 著作及言論出版自由 (C) 居住及遷徙自由 (D) 集會及結社自由。

39. 根據上文，吳先生與甲媒體之間的糾紛，下列何項理解最為正確？ (A) 政府制定文中提及的法律是為了保障甲媒體的權利 (B) 吳先生可透過訴願要求政府以公權力維護他的權益 (C) 人民的財產權不屬於公共事務，不受《憲法》保障 (D) 吳先生採取的法律行動屬於《憲法》保障的受益權。

(五) 中國 2013 年提出一帶一路政策，陸路通往歐洲，海路則串連東南亞經非洲到達歐洲，期望能與沿線國家增進交通、能源、貨物、人員的交流，增強彼此經濟活動的規模。請回答下列問題：

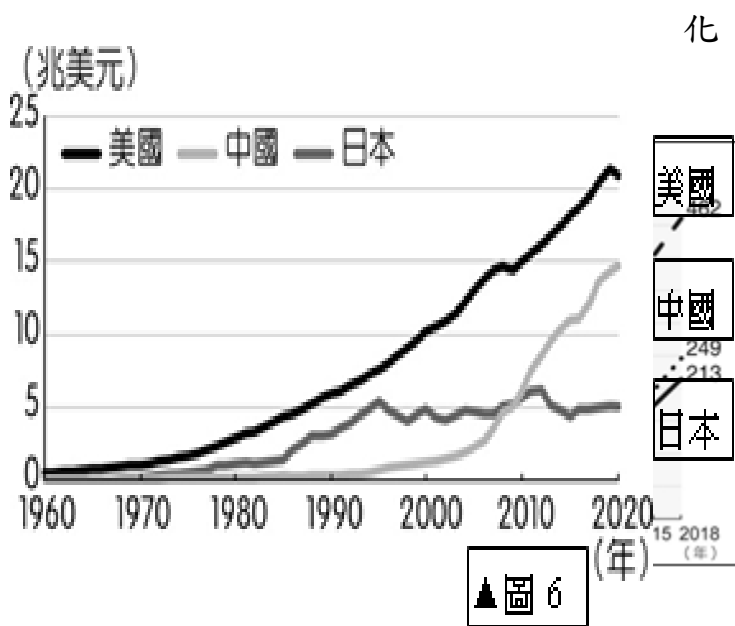
40. 讀上文可知，中國提出「一帶一路」政策的主要目的為何？ (A) 串聯五大洲進行貿易 (B) 強化各國資源的流通 (C) 加強與紐澳的區域合作 (D) 促進中國東北地區的發展。



41. 「一路」是「海上絲路」，自中國東南沿海出發，往南經過南海再往西通過蘇伊士運河直達歐洲。請問：海上絲路途中會經過下列哪兩片海域？ (A) 太平洋、印度洋 (B) 北極海、太平洋 (C) 大西洋、印度洋 (D) 太平洋、大西洋。

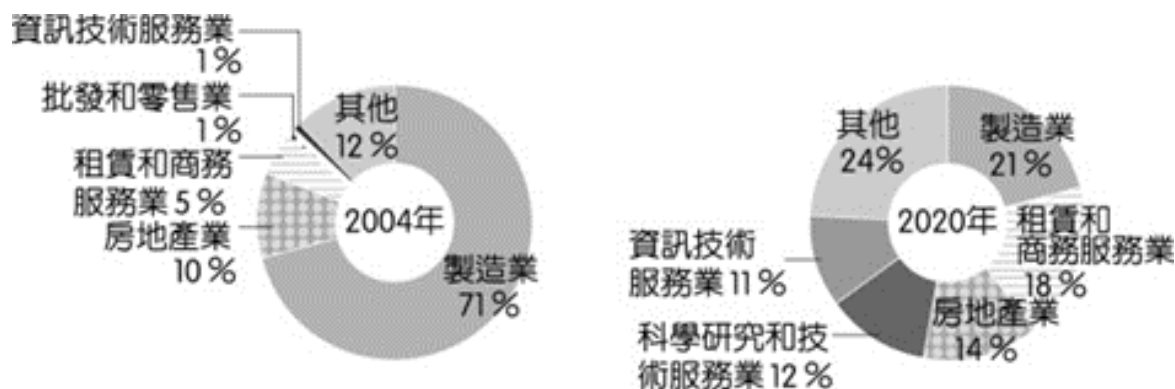
42. 中國為了擴大區域間的經濟合作，推出「一帶一路」政策。請問：一帶一路沿線國家所歸屬的區域不包括下列何者？ (A)歐洲 (B)北美 (C)南亞 (D)非洲。
43. 喀什是中國西部經濟區的都市，中國政府期望將喀什建設成向西出口的加工基地，出口紡織品、食品加工產品至塔吉克等鄰國，請問：「喀什」在中國所扮演的經濟角色，與下列哪個都市較為雷同？ (A)北京 (B)上海 (C)深圳 (D)廣州。
44. 「一帶一路」政策除了鞏固中國與周邊國家的關係，也可以此解決中國國內目前所面臨的問題，這些問題包含下列哪些？ 甲、產能過剩； 乙、能源供給； 丙、商貿市場； 丁、資金短缺 (A)甲乙丙 (B)甲乙丁 (C)乙丙丁 (D)甲乙丙丁。

(六)圖 6 是 1960 年~2020 年美國、中國及日本 GDP 變圖，回答下列問題。



45. 哪一年，中國已超越日本，成為世界第二大經濟體，並成為全世界最大的消費市場？ (A) 1970 年 (B) 1980 年 (C) 2000 年 (D) 2010 年。
46. 中國 GDP 總額極高，位居世界第 2 位，但每人平均 GDP 卻遠低於世界各國。此現象和中國哪一個環境特色最為相關？ (A)平原狹小 (B)人口眾多 (C)政治型態 (D)沙漠廣大。

(七)右圖是 2004、2020 年外國對中國投資行業比例圖，回答下列問題



47. 請找出 2004 年外國最主要投資哪一個行業？ (A)製造業 (B)房地產業 (C)資訊技術服務業 (D)租賃和商務服務業
48. 與2004年相比，2020 年外國投資哪一種產業增加比例最高？ (A)製造業 (B)房地產業 (C)資訊技術服務業 (D)租賃和商務服務業。
49. 由圖可知，外資對中國投資的類別從2004到2020 年產生了很大的轉變，究其原因跟以下何者無關？ (A)中國經濟起飛 (B)人民所得增加 (C)內需市場成長 (D)自然資源豐富
50. 從外資2020年對中國的投資類別來看，可以反映出外資看中中國龐大的消費潛力，請問，中國由「世界工廠」轉變成「世界市場」的原因？ (A)面積廣大 (B)現金交易 (C)人民所得增加 (D)一胎化政策。

花蓮縣立吉安國中 112 學年度第一學期 八年級 社會科 期中考

班級：八年 班 姓名： 座號：

(作答方式：劃記答案卡)

一、基本選擇題：每題 2 分

1.	2.	3.	4.	5.	6.	7.	8.	9.	10.
11.	12.	13.	14.	15.					

二、思考挑戰題：每題 2 分

16.	17.	18.	19.	20.	21.	22.	23.	24.	25.
26.	27.	28.	29.	30.					

三、綜合題組題：每題 2 分

31.	32.	33.	34.	35.	36.	37.	38.	39.	40.
41.	42.	43.	44.	45.	46.	47.	48.	49.	50.