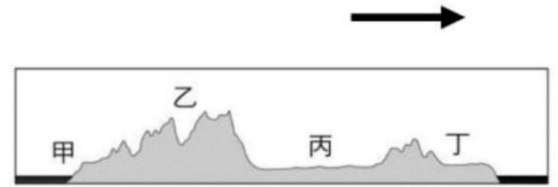


花蓮縣立吉安國民中學 112 學年度第 1 學期第二次段考九年級社會科題目卷

九年__班 座號：__ 姓名：_____

一、選擇題：每題2分，共90分。（作答方式：劃記答案卡）

- 1 附圖為北美洲沿著北緯 40 度剖出的地形剖面圖，根據此圖判讀下列敘述何者「錯誤」？
- (A)圖中的箭頭指向東方
 (B)乙區為落磯山脈，受板塊擠壓，多火山、地震活動
 (C)丙區為北美大平原，密西西比河流經南部，是重要的農業帶
 (D)丁區是拉布拉多高原，地勢高聳，缺乏礦產。



- 2 附圖是北美洲氣候類型分布圖。其中甲區域氣候分布的緯度，東岸比西岸低，主要受哪一因素影響？
- (A)西風 (B)地形 (C)洋流 (D)距海遠近。



- 3 承上題附圖，乙區域氣候僅分布於狹長的海洋地帶，不像歐洲較深入內陸，主要受哪一因素影響？(A)西風較弱 (B)面積較大 (C)山脈南北走向 (D)冬季冷氣團較強。

- 4 Apple TV+想拍攝以北美洲各地自然災害為主題的原創

影集，故事背景設定在自然災害發生頻率較高的地方，最後選出圖中四個地點，這四個地點分別依據當地自然災害的發生時間來決定拍攝主題，請問：下列哪一地點的拍攝主題最正確？

	(A)	(B)	(C)	(D)
地點	甲	乙	丙	丁
時間	12-2 月	1-3 月	4-5 月	6-9 月
拍攝主題	暴風雪	颶風	地震	龍捲風



- 5 位於北美洲美國與加拿大之間的五大湖區是世界上最大的淡水湖，透過聖羅倫斯河的水運連接大西洋，沿岸興起了不少工業都市，請問五大湖區的成因應為下列何者？
- (A)冰蝕湖 (B)火口湖 (C)斷層湖 (D)堰塞湖。

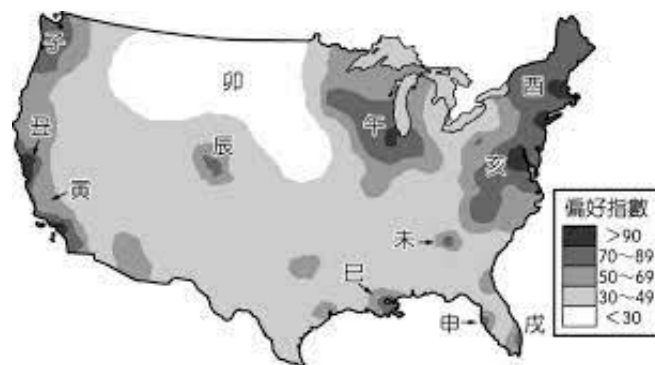
- 6 「要加價升級燕麥奶嗎？」近期越來越多連鎖、獨立的咖啡廳，都開始提供消費者燕麥奶，植物奶的興起讓相關業者業績成長，卻也同時衝擊了酪農業。根據美國農業部的資料，在 1970 年代，美國人一年飲用約 30 加侖的牛奶，但到了 2018 年，只有約 18 加侖。美國人近年來改變過去每天飲用牛乳的習慣，轉向其他飲料，使牛乳需求大減而導致價格持續下滑，許多酪農因農場難以經營而倒閉。請問，美國生產乳製品的酪農帶主要分布於附圖中何處？(A)甲 (B)乙 (C)丙 (D)丁。



- 7 承上題，某大學教授撰文分析牛奶、各類植物奶與環境友善的關聯性，研究指出牛奶是碳足跡相對最高者，且無論何種植物奶，都相比牛奶排放較少溫室氣體、使用較少水資源與土地面積。燕麥奶的流行，某方面也是因為它對環境的益處，但研究中更特別提及目前於美國、加拿大種植的燕麥，多採大型單一作物種植，請問下列關於北美洲的農業耕作型態的敘述何者正確？
- (A)美國農業人口稀少，故採高度機械化方式耕作
 (B)農業科技輔以精耕細作的經營方式，總產量高
 (C)每位農民耕作的農作物種類多元，以符合市場消費者需求
 (D)美國商業性農業的經營型態與巴西生產甘蔗的農業形式完全一致。

- 8 人們在選擇工作及居住地時多受就業機會、治安、文化生活及自然環境等所影響。附圖是針對美國大學生的居住及工作地選擇，抽樣調查結果所繪製的「偏好指數」空間分布圖，指數愈高則代表愈受大學生喜愛。請問下列敘述何者正確？

- (A)「子」區電子公司林立，全球高科技產業的重鎮「矽谷」即位於此
 (B)「亥」區的紐約為世界金融中心，地標銅牛即期許著股市長紅，華爾街的金融業動向牽動著全球的經濟走向
 (C)因為晴天的日數較多，美國國家航太總署(NASA)的研究中心設置在「戌」區，為火箭發射基地
 (D)「卯」區的偏好指數偏低是因為當地盛行石化工業，各種汙染較為嚴重，居住條件不佳。



- 9 下表為拉丁美洲某個國家的提示，若要加入第四項提示，可以選擇下列哪一敘述填入？

提示 1：甘蔗、咖啡、柑橘產量豐富
提示 2：足球強權、世界杯足球賽嗨翻天
提示 3：森巴嘉年華會
提示 4：？

- (A)高山上放牧羊駝、駱馬
 (B)曾有印加古文明，留下馬丘比丘遺跡
 (C)鐵礦豐富發展鋼鐵、汽車工業

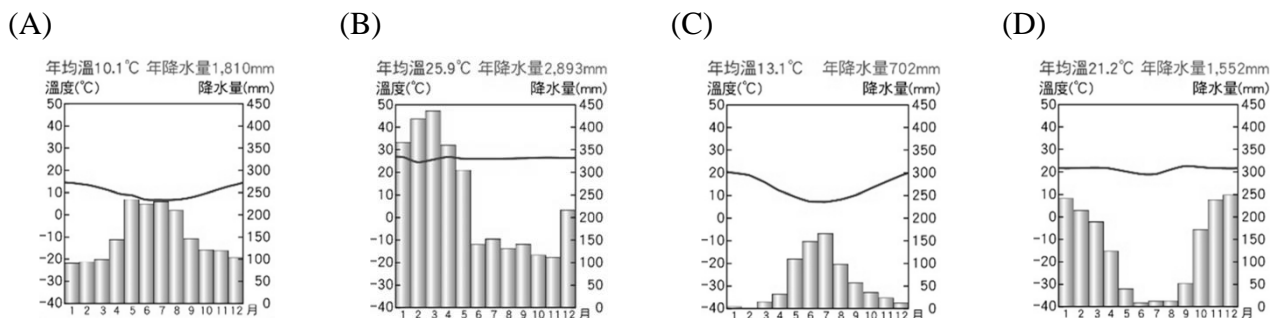
(D)首都華爾街的金融動向，牽動著全球經濟走勢。

- 10 現今的國際貿易發展已從早期的全球化架構演變為區域型態的合作組織，如東協和歐盟。美洲地區也不例外，右圖為北美地區的美墨加協定會旗，請問在該組織中哪一國主要提供廉價勞力，發展邊境加工出口產業？
(A)美國 (B)墨西哥 (C)加拿大 (D)巴西。

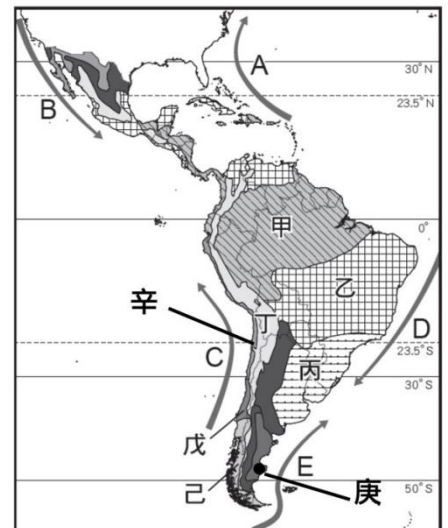


- 11 歷經殖民、獨立，發展至今，中南美洲多數國家的經濟結構有哪一項特色？
(A)科技發達，科技化農業盛 (B)勞工廉價，成為世界工廠
(C)多依賴單一農、礦產品出口 (D)文化強勢，商品行銷全世界。
- 12 巴拿馬運河是世界唯一的聯洋運河，關於該運河的敘述，下列何者「錯誤」？
(A)設置水閘控制水位 (B)連接太平洋與印度洋
(C)切穿中美地峽山地 (D)紐約到東京的商船經由此處可縮短距離。

- 13 「聖地牙哥位於智利國土中部、南緯 30~40 度之間的大陸西海岸，由西班牙征服者佩德羅·德·巴爾迪維亞於西元 1541 年建立，其之所以選擇在該地建城，是由於當地的氣候環境及容易的防守形勢。」請問：下列氣候圖中，何者最接近聖地牙哥的氣候類型？



- 14 附圖為中南美的氣候分布簡圖，請問何區因位於西風背風側，並受到寒流影響呈現溫帶沙漠氣候？
(A)戊 (B)己 (C)庚 (D)辛。



- 15 承上題附圖，丙氣候區的主要形成原因為何？
(甲)盛行西風吹拂(乙)東南信風吹拂(丙)暖流流經(丁)副熱帶高壓籠罩

(A)甲乙 (B)甲丁 (C)乙丙 (D)丙丁。

16 看到達文西的名畫《最後的晚餐》，上面有耶穌和十二門徒用餐的情景，每位門徒的表情和動作都呈現細膩的差異，以反映他們當時的心態。這種注重「人性」的藝術手法，反映出當時的哪一種思想精神？ (A)報復主義 (B)神學至上 (C)輪迴觀念 (D)人文主義。

17 經典記載耶穌和其門徒的言行與早期基督教的事件，直到目前為止，此書仍然是全世界最受歡迎、銷售量最多、影響力最大的書，發行量累積已超過 40 億本。這應是下列哪一本經典？ (A)《佛經》 (B)《吠陀經》 (C)《新約聖經》 (D)《舊約聖經》。

18 方言較能貼近民眾的日常生活，所以歐洲文藝復興時期的作家喜愛以方言來寫作。請問：下列哪一組作家寫作時是使用義大利方言？

(A)但丁、莎士比亞 (B)佩脫拉克、薄伽丘 (C)佩脫拉克、莎士比亞 (D)薄伽丘、莎士比亞。

19 西元 313 年，羅馬帝國某位君王公布了《米蘭詔令》，承認基督教合法。此位君王在位期間大力扶持基督教，公開鼓勵國民成為基督徒，並免去基督教神職人員的稅務和兵役；在傳說中耶穌誕生地興建「伯利恆聖誕教堂」、受洗成為基督徒。請問上述「君王」是指下列哪一位？

(A)狄奧多西 (B)屋大維 (C)君士坦丁 (D)凱撒。

20 比較下列世界三大普世宗教-「基督教、伊斯蘭教與佛教」，請問哪一項整理有錯？

	基督教	伊斯蘭教	佛教
甲.創立者	耶穌	穆罕默德	釋迦牟尼
乙.創立時間	1 世紀	7 世紀	西元前 6 世紀
丙.宗教特色	耶和華為唯一真神	信奉唯一真神阿拉	與中國文化融合→禪宗
丁.起源地	歐洲	亞洲	亞洲

(A)甲 (B)乙
(C)丙 (D)丁。

21 如右附圖 A 點有一座曾經是基督教與伊斯蘭教共存的教堂-「哥多華主教座堂」，這座已被列入世界文化遺產的教堂，外觀是修道院，內部還是存有清真寺之特色，請問此區會有清真寺建築存在，是與下列哪一個帝國有關？

(A)塞爾柱土耳其帝國 (B)阿拉伯帝國
(C)鄂圖曼土耳其帝國 (D)亞歷山大帝國。



22 2022 年 9 月 8 日，英國白金漢宮無預警發布一項訊息-女王伊莉莎白二世身體狀況堪憂，重要皇室成員紛紛即刻趕往女王所在地巴摩拉城堡；當日下午 15:10 分，伊莉莎白女王逝世，享壽 96 歲。英國政府隨即啟動「倫敦橋行動」，並於 9 月 19 日，於西敏寺大教堂舉行國葬，結束女王一生。女王的宗教信仰屬英格蘭教會(英國國教)，首創為英王亨利八世，請問關於此宗教下列何者為是？

(A)英國國王兼任教會領袖-「政教合一」

- (B)亨利八世是因為財產問題與羅馬教會決裂
 (C)此教派的分支-清教徒與長老教會
 (D)主張信仰應該以「聖經」為依歸。

23 如右附圖是 12 世紀阿拉伯的世界地圖，中心「甲」區位於肥沃月彎中部，底格里斯河流經其市區，是伊斯蘭世界政治、宗教、經濟、商業、交通中心；《天方夜譚》故事背景多為此區，請問「甲」是指下列哪一座城市？



- (A)開羅 (B)巴格達
 (C)麥加 (D)君士坦丁堡。

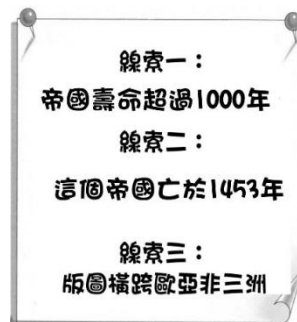
24 如右附圖是 15 世紀文藝復興重鎮。請問圖中城市興起並發展出文藝復興運動的原因與下列哪一項無關？



- (A)有城市富商的支持 (B)出現考古遺址挖掘
 (C)位在東西貿易要道 (D)保存傳統古典文化。

25 小文在闖關遊戲中得到的線索如附圖，請問這個帝國最後亡於誰的入侵呢？

- (A)阿拉伯帝國
 (B)拜占庭帝國
 (C)塞爾柱土耳其帝國
 (D)鄂圖曼土耳其帝國。




【題組】：請根據這段文字與附圖，回答第 26~28 題。

傑弗里·喬叟 (Geoffrey Chaucer, 1343 年—1400 年 10 月 25 日)，中世紀英格蘭倫敦作家，他最具有代表性的作品是《坎特伯雷故事集》(The Canterbury Tales)，內容是敘說有 29 名信徒聚集在倫敦一家旅館，準備前往 70 英里外的聖地。旅館主人自告奮勇擔任導遊，並提議在往返途中每人各講 2 個故事，以解 5 天旅途中的無聊寂寞，故事講得最好的人，可以免費吃一頓飯。相傳這本書的創作靈感與書寫方式深受薄伽丘的《十日談》的影響，其中商人、農民、修女，以及賣贖罪券者的故事最為精彩。

26 這本書靈感以作者生活時代為背景創作。如果導演根據這本書翻拍成電影，請問下列劇情哪一則才會符合中世紀實際情況呢？

- (A)電影開頭說：自從塞爾柱土耳其造成西羅馬帝國滅亡後，西歐進入開始中世紀
 (B)當時西歐的人民生活重心都以教會為中心
 (C)由於當時基督教尚未合法化，所以朝聖者都是偷偷摸摸地前往聖地朝聖
 (D)西歐各地教會因恐懼統治者軍力強大，只能順從各國君主。

- 27 看完這本書的小敏，印了一些跟這本書有關的背景資料想跟同學分享，但附圖關於「語言」這個欄位竟被墨水給汙損了。根據你的研判，你覺得「語言」欄位應該填上哪一個答案呢？
 (A)拉丁文 (B)義大利文 (C)希臘文 (D)英文。



- 28 文中提到「買賣贖罪券」，也是促使後來宗教改革的原因，請問後來是哪一個人，在作者成長的地方創立新宗教呢？
 (A)羅耀拉 (B)喀爾文 (C)馬丁路德 (D)亨利八世。
- 29 在卡通海綿寶寶的劇情中，蟹老闆是一個非常熱愛工作賺錢的人，他常會透過各種方式誘拐員工同意加班。今天蟹老闆又引用某人的名言：「努力工作來榮耀上帝」來勸說海綿寶寶加班，於是單純的海綿寶寶就取消跟派大星的活動，讓派大星非常生氣。請問蟹老闆引用的名言，應該是誰的主張呢？
 (A)穆罕默德 (B)喀爾文 (C)米開朗基羅 (D)摩西。
- 30 下列左圖與右圖分別是阿隆得知心愛的狗狗吉吉走失後，先後發布了兩張不同告示懸賞廣告海報的結果。根據此二幅圖片中的變化判斷，阿隆是運用下列何種經濟學概念來達成目標？

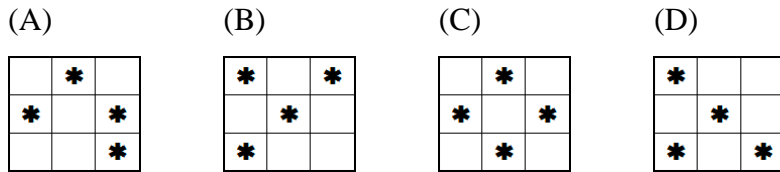


- (A)價高少買 (B)價高多賣 (C)負向誘因 (D)有得必有失。
- 31 阿翔為了籌辦婚禮，(甲)賣了五張台積電股票，又在(乙)網路上購得一些新家電，接著趁百貨公司週年慶；前往(丙)遠東百貨公司選購一只 Tiffany 鑽戒和一套新西裝，最後前往(丁)花店買了一束九十九朵的玫瑰花；開心的準備迎娶新娘，請問上述商品交易，何者是在「無形市場」內完成的？
 (A)甲乙 (B)乙丙 (C)丙丁 (D)甲丁。
- 32 生產者運用各種資源製造生產出各式各樣的產品，以滿足消費者的需求，成果可分為「有形財貨」和「無形勞務」。請問下列選項中何者性質與其他三者不同？
 (A)英國搖滾樂團 COLDPLAY 於高雄舉辦演唱會 (B)補教名師呂捷的加強班於近期開課
 (C)醫美業者推出具美白回春的保養品 (D)宅急便公司提供生鮮冷凍食品的宅配服務。

- 33 麗容參加公民快閃闖關活動，限時看完右側九宮格後，要將右側九宮

有得必有失	福無雙至禍不單行	羊毛出在羊身上
指鹿為馬	魚與熊掌不可兼得	偷雞不著蝕把米
天下沒有白吃的午餐	穀賤傷農	一枝草一點露

格內成語，符合機會成本意思的畫記，若要成功闖關，則應畫成下列何圖？



34 為鼓勵民眾有效利用共享單車，同時避免民眾長久占用，台北市政府制定 YouBike 收費方式如下表，依據內容判斷，該收費方式所運用的經濟學原則，與下列何者最為類似？

使用時間	費率
4 小時以內	每半小時 10 元
4 小時~8 小時	每半小時 20 元
超過 8 小時	每半小時 40 元

- (A)客製化商品增加不同客源 (B)夏季電價費率較高
(C)美式賣場好市多醞釀調高年費 (D)樂園提供不同套餐組合供消費者選擇。

35 有關於資源的「稀少性」，就經濟學的定義，下列何者正確？

- (A)資源稀少是相對於人們的欲望
(B)稀少等於貧窮，是指資源總數量很少
(C)全球首富馬斯克不會有資源稀少的問題
(D)在富有進步的國家不會有資源稀少的問題。

36 小明的媽媽拿著連鎖量販店的點數 48000 點，趕在兌換截止日兌換家電用品，下面為小明的媽媽手中的清單，請問：小明的媽媽最後選擇氣炸鍋的機會成本為何？

所需點數	商品內容	喜愛程度
50000	循環扇	★★★★
48000	氣炸鍋	★★★
45000	烘碗機	★★
42000	吸塵器	★

- (A)循環扇 (B)烘碗機 (C)吸塵器 (D)烘碗機和吸塵器。

【題組】：請根據這段文字與附圖，回答第 37~39 題。

蕉農福伯感嘆：「近日香蕉價格崩跌，這裡的蕉農血本無歸，只能含恨把滿車滿車的香蕉當作飼料餵豬。」

阿嬌姨：「希望政府啟動行銷與多元利用等措施，趕快穩定香蕉的價格。」

37 上面兩人的對話，最有可能是什麼因素所造成的？

- (A)生產方式 (B)生產數量 (C)消費數量 (D)銷售利潤。

38 為避免血本無歸的狀況發生，在生產的何項課題上需要理性的評估？

- (A)生產什麼 (B)如何生產 (C)為誰生產 (D)生產方式。

39 關於上面對話，下列何者正確？(甲)生產者可增加生產(乙)生產者會改種植其他作物(丙)消費者可增加消費(丁)消費者改買其他商品。

- (A)甲丙 (B)乙丁 (C)乙丙 (D)甲丁。

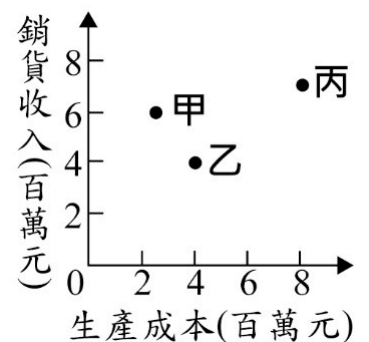
- 40 聽說糖可能缺貨，屆時糖價將居高不下，因此麵包店老闆搶著進貨，請問從影響消費行為的因素，下列何者正確？ (A)所得水準 (B)消費者偏好 (C)預期心理 (D)社會的消費風氣。
- 41 大雄經營一家早餐店，下列何種方法有助於增加早餐店的銷貨收入？ (甲)縮短營業時間 (乙)增加餐點外送服務 (丙)推出集點換薯條活動 (丁)多聘一位員工 (戊)推出買早餐送飲料的活動 (A)甲乙丙 (B)丙丁戊 (C)乙丙戊 (D)甲乙丙丁戊。
- 42 由於市場上的商品與推銷方式不斷更新、琳瑯滿目，消費者購買商品時，很容易因為資訊欠缺，導致權益受損，而引發消費者與業者之間的消費糾紛，此時可根據何種法律，來保障消費者的權益？ (A)公平交易法 (B)社會秩序維護法 (C)刑法 (D)消費者保護法。

- 43 某公司評估三種營運策略的收支情況，如右表所示。若僅考量利潤，該工廠的最佳選擇是「維持現狀」，且此選擇的機會成本是「增產 B 產品」。根據上述內容判斷，表中「☆」處的數值，最可能為下列何者？ (A) 70 (B) 60 (C) 50 (D) 40。

	銷貨收入	成本
增產 A 產品	100	50
增產 B 產品	120	60
維持現狀	110	☆

示。
狀」，

- 44 某工廠擁有三條生產線，分別生產甲、乙、丙三項產品，上半年的銷售成果如圖所示。近日廠長決定停止生產其中一項產品，並把該生產線轉為生產其他二項產品中的其中一種，期望增加工廠的利潤。在考量各產線上半年獲利的狀況下，根據圖中資訊判斷，下列四個方案中，何者最能達成廠長的目標？ (A)停止生產丙，增加生產甲 (B)停止生產乙，增加生產甲 (C)停止生產甲，增加生產乙 (D)停止生產丙，增加生產乙。



- 45 從經濟學的角度觀察，下列哪一個現象是受「看不見的手」所影響？ (A)萬物皆漲，中油宣布凍漲油價 (B)民眾以健保卡實名制購買快篩試劑 (C)經濟逐漸復甦，行政院宣布明年考慮為軍公教人員加薪 (D)萊豬進口即將成為事實，許多店家宣稱，若使用國產豬肉將造成便當成本增加，因此要漲價。

花蓮縣立吉安國民中學 112 學年度第 1 學期第二次段考九年級社會科題目卷

九年__班 座號：__ 姓名：_____

二、素養題：共 10 分。（作答方式：書寫答案並繳回答案卷）

1.請參考右圖，從公費流感疫苗接種對象，可看見此項資源的分配最主要是考量到何項因素？(2 分)

2.請用自己的話敘述，為什麼疫苗需要公費施打?(1 分)

2023年
公費流感疫苗 接種對象

第一階段 / 10 月 2 日開打

- 醫事及衛生防疫相關人員
- 65 歲以上長者
- 安養、養護、長期照顧(服務)等機構之受照顧者及所屬工作人員
- 滿 6 個月以上至國小入學前幼兒、孕婦
- 具有潛在疾病之高風險慢性病人
- BMI ≥ 30 者與罕見疾病及重大傷病患
- 國小至高中(職)/五專 1 至 3 年級學生
- 6 個月內嬰兒之父母
- 幼兒園托育人員及托育機構專業人員
- 禽畜業及動物防疫相關人員

第二階段 / 11 月 1 日開打

- 50至64歲無高風險慢性病成人

※請閱讀以下文章，並回答第 3、4 兩題※

五月花號是一艘英國船，於 1620 年將一群英國清教徒從英格蘭運送到新大陸。經過 10 周艱苦的海上航行，五月花號帶著 102 名乘客和大約 30 名船員抵達美國，在今美國麻薩諸塞州科德角附近拋錨靠岸。這些來自英國的清教徒他們相信《預選說》，並決定與英國國教、英格蘭教會分開，因為他們認為英格蘭教會不僅抵制改革，而且過於腐敗。從 1608 年開始，這些英國天路者們離開英國前往荷蘭；到 1620 年，他們決定穿越大西洋來到北美，在那裡他們將建立今北美新英格蘭地區的第一個移民居住區，普利茅斯殖民地。

3.請依你所學，文中提到的清教徒是屬於宗教改革中的哪一個教派？(2 分)

4. 請畫出五月花號可能的航行路線，用線段與箭頭表示路線與抵達位置。(1分)



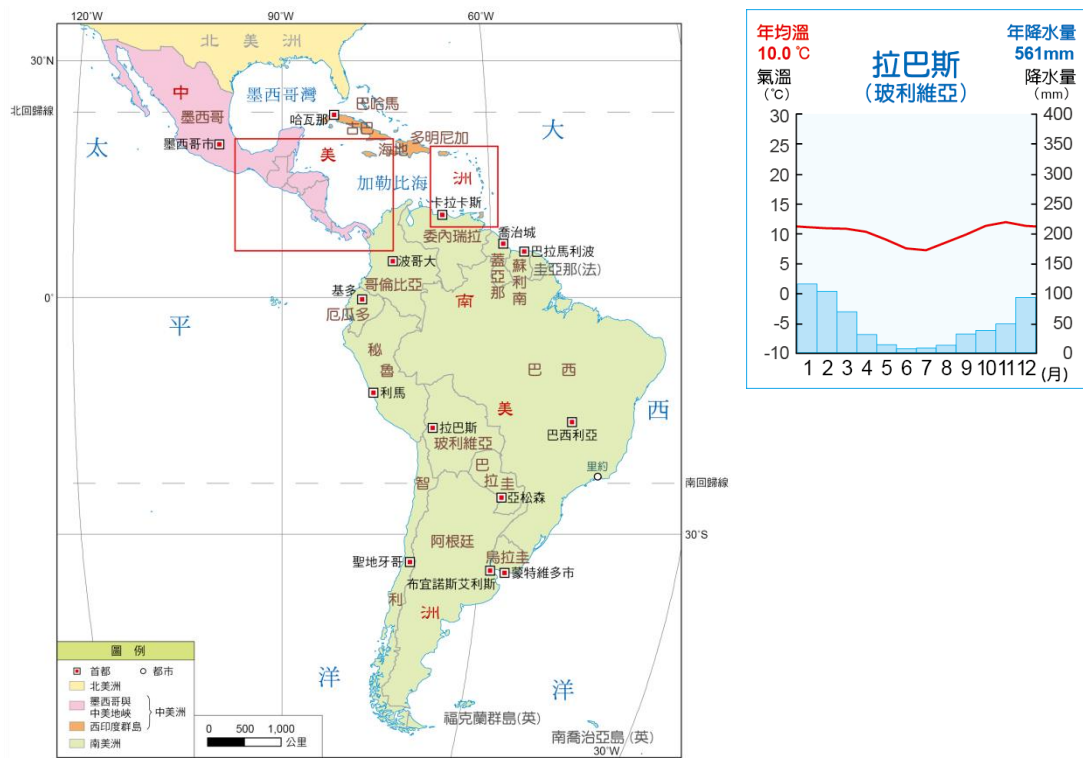
背面還有！！

※請閱讀以下文章，並回答第 6、7 兩題※

地質研究發現，玻利維亞蘊藏的鋰礦較原先估計的增加逾 200 噸，使玻國藏量高達 2,300 噸，進一步鞏固其鋰礦藏量居全球之冠的地位。由於全球進行能源轉型，加上電動車蓬勃發展，使得鋰需求急遽增加。總統阿爾斯(Luis Arce)表示，玻利維亞必須了解如何明智地管理及開採這項資源。阿爾斯政府與中俄企業簽訂鋰礦開採協議，預計 2025 年開始每年出口 5 萬噸鋰礦。

玻利維亞估計在烏尤尼鹽沼中有 2100 萬噸的鋰，並聲稱這是世界上最大的礦藏。烏尤尼鹽沼位於玻利維亞西南部的烏尤尼(Uyuni)小鎮附近，位於海拔近 3,700 公尺的山區，是世界最大的鹽沼。雨量稀少，氣候乾燥，湖水幹涸，烏尤尼鹽沼裏就留下一層以鹽為主的礦物硬殼，中部達 6 公尺厚。僅在 12 月至次年 1 月夏季雨期積水時，這裏的湖面像鏡子一樣，反射出的倒影美麗得讓人窒息。這就是傳說中的“天空之鏡”，曾被國家地理雜誌列為世界十大奇景之一。

6.請根據文章內容並就你所學，寫出中南美洲經濟發展的特色。(2分)



7. 根據上圖資訊，請寫出盛產鋰礦的烏尤尼鹽沼，屬於哪一種氣候類型。(2分)