

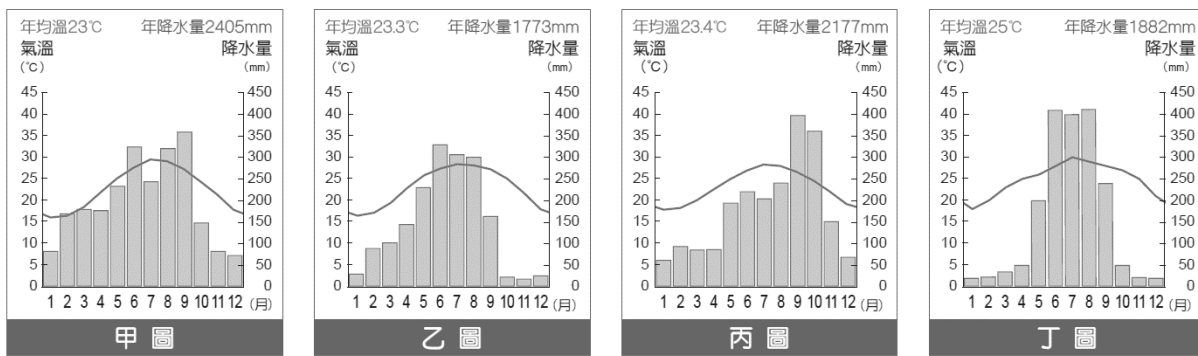
花蓮縣立吉安國民中學 112 學年度第一學期 七年級社會科 第三次段考試卷

【試題共有 50 題，試卷共有 1-5 頁】

七年__班 座號：__ 姓名：__

一、基本選擇題（每題 2 分，共 30 題，共 60 分）※依照題號，將答案需劃記在答案卡上※

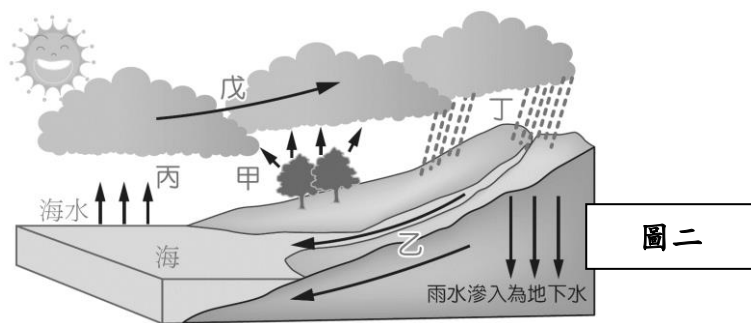
1.()表格的氣候資料，符合圖一中的哪張氣候圖？



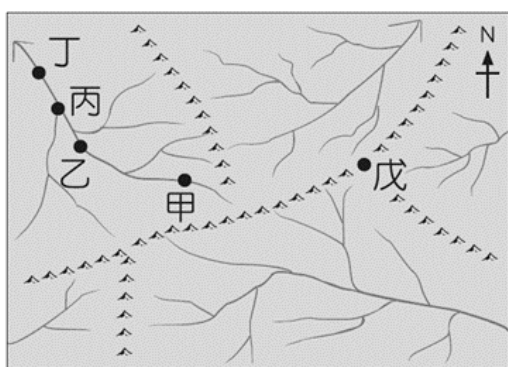
月分	1	2	3	4	5	6	7	8	9	10	11	12
氣溫 (°C)	18	20	23	25	26	28	30	29	28	27	25	21
降水量 (mm)	20	23	35	50	200	410	400	412	240	50	22	20

【圖一】

- (A)乙圖 (B)甲圖 (C)丁圖 (D)丙圖。
- 2.()承上題，哪張氣候圖乾溼季最為分明，可能最需要建設儲水設施？ (A)甲圖 (B)乙圖 (C)丙圖 (D)丁圖。
- 3.()下列何者是關於高雄氣候的描述？
 (A)今天下午下了一場西北雨 (B)夏季炎熱多雨，冬季溫暖乾爽
 (C)因颱風來襲，明天放假一天 (D)天氣預報說未來一週高溫達 30 度以上。
- 4.()下列四地何者夏季最涼爽？
 (A)玉山 (B)花東縱谷平原 (C)臺北盆地 (D)苗栗丘陵。
- 5.()臺灣的平原中，何者冬季乾旱現象最不明顯？
 (A)屏東平原 (B)嘉南平原 (C)宜蘭平原 (D)彰化平原。
- 6.()請根據圖二，回答「甲、乙、丙、丁、戊」依序為何？
 (A)蒸發、降水、凝結、蒸散、逕流。
 (B)蒸散、逕流、蒸發、降水、凝結。
 (C)蒸發、凝結、降水、蒸散、逕流。
 (D)蒸散、逕流、凝結、降水、蒸發。
- 7.()請分析某地的水系圖【圖三】，判斷甲、乙、丙、丁四地，何者的集水區範圍最大？
 (A)甲 (B)乙 (C)丙 (D)丁。



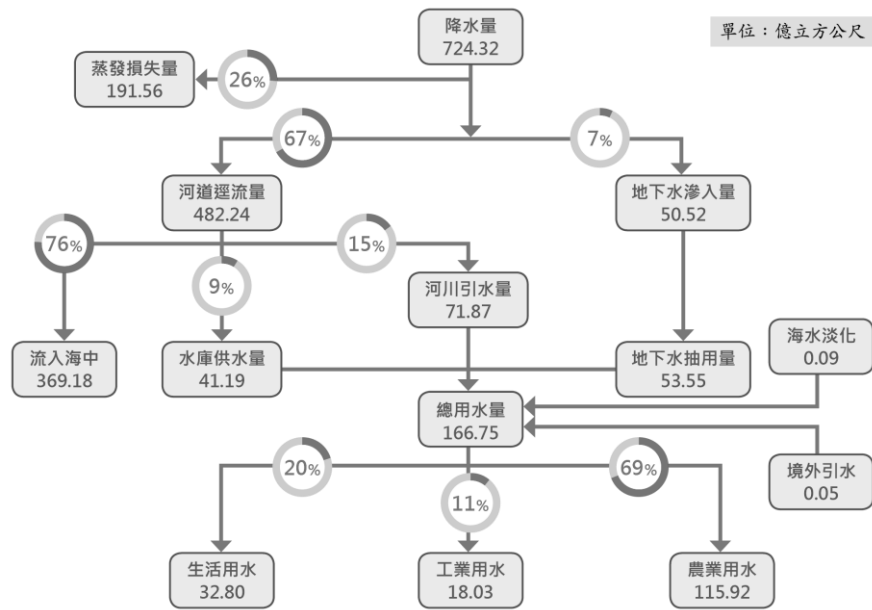
圖二



圖三

- 8.()承上題，在水系圖【圖三】中，甲、乙、丙、丁四地，流量最少與地勢最高分別何者？
 (A)丁、丙 (B)甲、甲 (C)丙、甲 (D)乙、乙。
- 9.()臺灣水庫淤積程度嚴重，影響水庫蓄水功能。下列何項策略最能有效改善上述現象？
 (A)強化集水區崩塌裸露地的植被復育 (B)擴大在河川下游種植防風林的面積
 (C)減少都市不透水鋪面，增加雨水入滲 (D)增加地面水源供應，以取代地下水。

10.()請參考下圖，民國 109 年水資源利用結構示意圖，回答問題。臺灣的降水量約 724 億立方公尺，但總用水量只有約 166 億立方公尺。請問：大部分的水都流到哪裡而無法使用？(A)海中(B)河川中(C)農田中(D)地下水。



11.下表一是某段時期臺灣進出口值統計表。表中哪一期間開始，反映出臺灣對外貿易由入超轉變為出超？

期間	出口	進口
	年平均値	年平均値
1868~1869	93.0	124.5
1870~1874	172.0	174.4
1875~1879	282.3	272.0
1880~1884	427.3	318.8
1885~1889	435.7	361.8
1890~1894	570.7	431.0

(A)1868~1869 (B)1870~1874 (C)1875~1879 (D)1890~1894。

12.()新莊萬應堂所祭拜的萬應公，也就是有應公，其實就是無主的孤魂，一般人認為死去的靈魂若無神主，無後代祭祀，不但會變成孤魂野鬼無法超生，而且會作祟危害世間，即臺灣民間的「有應公信仰」。此一信仰反映出當時哪種社會現象？(A)移民生活安定 (B)政府欺壓移民 (C)擔心官員懲罰 (D)分類械鬥頻繁。

13.()下表為清代臺灣地區科舉人數統計表。由此表可看出，嘉慶、道光時期臺灣考上舉人、進士的人數增多。之所以會出現這樣的轉變，主要原因應該是下列何者？

項目	康熙、雍正時期 (1684~1735)	嘉慶、道光時期 (1796~1850)
舉人	15	74
進士	0	6

(A)臺灣已無械鬥與民變，社會安定 (B)清廷實施渡臺禁令，女眷無法來臺
(C)工商業者廣設「郊」，帶動了讀書風氣 (D)文教機構陸續增設，人民受教育的機會增多。

- 14.()「面對漢人拓墾者的蠶食鯨吞，一些噶瑪蘭人在 1840 年（道光 20 年）左右前來到後山的奇萊平原，重新建立家園。」下列選項中何者符合題文所述的噶瑪蘭人移動方向？
 (A)宜蘭→基隆 (B)宜蘭→花蓮 (C)南投→花蓮 (D)臺南→南投。
- 15.()小杰是福建漳州人，雍正年間來到台灣開墾，他除了可以向官府申請土地開墾執照之外，還可以採用哪種方式合法開墾土地？ (A)從軍後被派駐到地方開墾 (B)自行到山裡開墾 (C)向聯合東印度公司購買土地 (D)向原住民承租土地。
- 16.()康熙年間岸裡社通事張達京，以割地換水方式合資興建水圳，是漢人與原住民合作最著名的例子，是下列哪一個水圳？(A)曹公圳 (B)貓霧揀圳 (C)瑠公圳 (D)八堡圳。
- 17.()清帝國領臺初期，從中國大陸進口到臺灣的商品，以何者為主？ (A)稻米 (B)日用品 (C)鹿皮 (D)蔗糖。
- 18.()臺灣在開港通商後，對外貿易熱絡，其中哪一項商品風靡海外市場，成為最大宗的出口商品？
 (A)茶 (B)糖 (C)樟腦 (D)米。
- 19.()「六死三留一回頭」為臺灣早年的諺語，這句諺語反映出台灣當時的何種社會現象？
 (A)漢人被迫移民到臺灣 (B)移民自行偷渡被處死 (C)移民渡台的艱辛 (D)移民臺灣晚景淒涼。
- 20.()清代平埔族因不勤官府指派沉重勞役，憤而聯合中部地區平埔族群各社反抗，於雍正年間發生哪一件清代規模最大的原住民抗官事件？(A)郭懷一事件 (B)大甲西社事件 (C)大肚王事件 (D)麻豆社事件。
- 21.()開班會，大家正在討論班服的顏色時，大砲和志偉突然為了樣式的選擇打了起來，全班亂成一團。此時出席人可以提出下列哪一問題請求主席糾正？ (A)權宜問題 (B)秩序問題 (C)規範問題 (D)權益問題。
- 22.()附表是某國中在本月規畫的工作內容。根據表中內容判斷，何者最可能為該校本月學生學習活動的重點？

工作項目	實施內容
海報競賽	主題：人權保障與人道關懷
校外參訪	參觀社區附近的縣議會
學生自治活動	1. 制定班級公約 2. 舉辦學生代表選舉活動

- (A)建立良好人際關係 (B)提高社區參與程度 (C)彰顯倫理道德觀念 (D)培養民主法治素養。
- 23.()下列四位同學正在競爭當班會主席的機會，其中何人的發言顯示其對主席的任務有正確的認知？

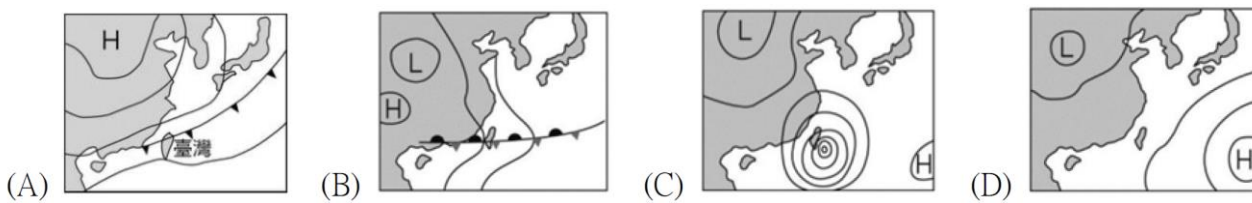


- 24.()在原住民族生活中，是以下列何者作為生產與分配的單位？(A)家庭 (B)家族 (C)部落(D)族群。
- 25.()以下哪些法規提到人民都有受教育的權利？
 (A)刑法、民法 (B)世界人權宣言、憲法 (C)憲法、民法 (D)刑法、憲法。
- 26.()聯合國主張未滿 18 歲的兒童與成年人同樣享有人權，包含醫療、教育、受保護及獲得平等發展機會，我國因此制定以下何部法規，以落實保障兒童的四大權利？
 (A)兒童權利公約 (B)世界人權宣言 (C)兒童權利公約施行法 (D)中華民國憲法。
- 27.()依據內政部修正的「紀念日及節日實施辦法」，原住民歲時祭儀可放假一日，參與自己族群傳統文化祭典，此為因應原住民面臨的何項困難？
 (A)傳統文化的斷層 (B)部落經濟的停滯 (C)傳統領域的保護 (D)文化與法律的衝突。

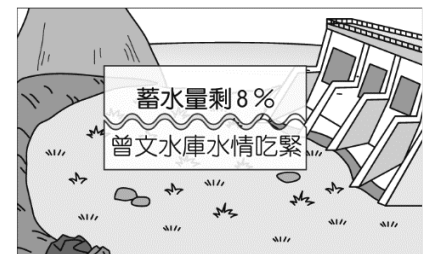
- 28.()聯合國將 2019 年訂為原住民語言國際年，我國也於 2017 年施行原住民族語言發展法，這些作法主要目的為何？
 (A)文化傳承 (B)經濟發展 (C)財產保障 (D)強化觀光。
- 29.()為保護野生動物、維護物種多樣性與自然生態之平衡，我國立法對於野生動物的保育做出規範。但原住民族基於傳統祭祀慶典，經主管機關同意後，可獵殺、宰殺野生動物，上述特別許可原住民族行為的規定，其理由最可能是下列何者？
 (A)保障原住民的環境權 (B)尊重不同的族群文化 (C)維持自然生態的平衡 (D)確保生物種類的多樣。
- 30.()依據《原住民族基本法》規定，為促進原住民族部落健全自主發展，部落應設何種會議來討論部落相關事項？
 (A)部落會議 (B)村(里)民大會 (C)村(里)幹事會議 (D)社區管理委員會。

二、實力挑戰題（每題 2 分，共 20 題，共 40 分）

- 31.()對於氣壓的敘述，下列何者正確？
 (A)高氣壓中心以「L」表示 (B)通常高度愈高，空氣愈稀薄，氣壓就愈高
 (C)雨量計可以觀測並記錄氣壓 (D)氣溫較高的地方，空氣膨脹上升，形成低氣壓。
- 32.()小丞用手機APP查詢跨年夜臺北的天氣，得知「低溫可能會下探11度，會有零星短暫飄雨」，並且叮嚀朋友要準備禦寒衣物和雨具。請問：此時的臺北地面天氣圖應最接近下列何者？



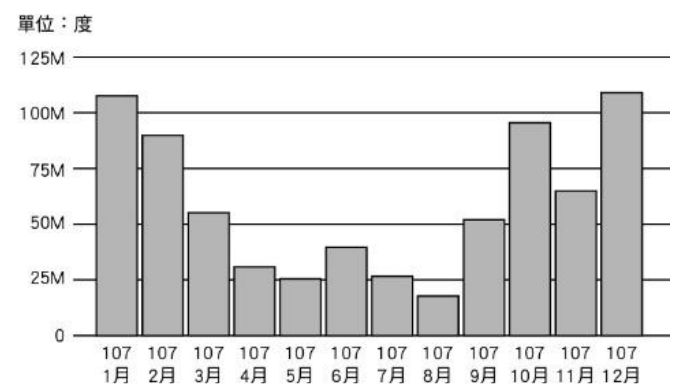
- 33.()影響台灣西部河川較東部長的原因與何者最相關？
 (A)分水嶺為南北走向 (B)分水嶺位置偏東 (C)島形狹長 (D)島窄山高。
- 34.()臺灣河川普遍為河床陡、水流湍急，利於水力發電而不利於航運，但淡水河卻例外。其成為臺灣少數利於通航的河川，原因為下列何者？(A)流域面積較廣 (B)河流長度較長 (C)全年降水較均勻(D)沿岸聚落經濟發達。
- 35.()3月22日為世界水資源日，提醒大家水資源是有限的，在積極開發水資源的同時，也必須做好水資源管理，下列何種作法無助於水資源的保育或開發？(A)確實做好河川污染的管制 (B)在集水區要做好水土保持
 (C)地下水抽取量大於補注量 (D)減少地表人工鋪面的面積。
- 36.()水資源影響居民生活及產業活動的發展，因此為國家重要的施政項目。圖四是某日在看新聞時所見到的標題，不禁使他憂心忡忡。請問：該新聞的播出時間最可能接近哪一個節慶？(A)中秋節(9-10月)(B)聖誕節(12月25日)
 (C)端午節(5-6月)(D)清明節(3-4月)。



【圖四】

- 37.()風力發電是指利用風來產生電力，屬於可再生能源。但由於會受到各季節風力不同影響，發電量並不穩定。圖五為臺灣電力公司某年各月風力發電發電量圖。而其中 4 月~5 月分發電量較低，可能是因什麼原因造成的？
 (A)因為颱風等災害，使臺電關閉發電機組。
 (B)當時處於季風的轉換期，因而造成風力微弱。
 (C)由於日照強烈，使地表的對流大幅降低。
 (D)此時盛行東北季風，因風力微弱發電量不足。

【圖五】



- 38.()馮靖參加旅行社所舉辦的淡水之旅，抵達當地後，導遊帶領他們到某棟建築物前，並解說：「這位傳教士的人生期許是『寧願燒盡，不願鏽壞。』因此積極在臺傳教，並創辦各種教學場所，如你們眼前所看到的牛津學堂就是他所興建的。」導遊介紹的傳教士是下列何人？(A)馬雅各 (B)沈有容 (C)鄭芝龍 (D)馬偕。
- 39.()臺灣俚語：「有唐山公、無唐山媽」、「红柿出頭，羅漢腳仔目屎流」、「一個某，卡贏三個天公祖」。這些俚語都跟當時清廷的哪一項政策有關？(A)劃界封山 (B)渡臺禁令 (C)開港通商 (D)寓兵於農。

- 40.() 1860 年代以後，臺灣政治經濟重心逐漸由南部轉移至北部，其主要原因為何？
 (A)南部米糖生產減少，經濟蕭條 (B)南部未開放對外的通商口岸，導致發展落後
 (C)北部由於臺灣建省，而成為政治中心 (D)北部出口茶與樟腦，帶動城鎮興起。
- 41.() 某地方志記載：「此地製茶工坊林立，茶葉產期時，茶行必須僱用許多女工，多則五、六十人，少則二、三十人，甚至有漳、泉婦女來此短期工作，每日工資四、五錢不等。」這本地方志最可能為下列何者？
 (A)《諸羅縣志》 (B)《彰化縣志》 (C)《臺東州志》 (D)《臺北府志》。
- 42.() 小美是一位清帝國晚期住在淡水的年輕女性，從你所學歷史知識來看，她的生活應該不會出現下列哪一遭遇？
 (A)遇到來淡水經商的外國人 (B)服用西方傳教士開的西藥
 (C)因幫忙家計成為採茶女工 (D)看到大批的糖由淡水港進口到臺灣。
- 43.() 清代臺灣環境惡劣，漢原衝突嚴重，械鬥頻繁，人民為求自保，常透過神明祭祀為媒介，形成以居住地域為範圍的祭祀圈，而不同祖籍的移民，供奉神祇也不同。泉州移民供奉下列哪一位原鄉神明？
 (A)開漳聖王 (B)清水祖師 (C)三山國王 (D)王爺。
- 44.() 清帝國時期，臺灣與中國大陸之間的貿易情形，下列何者敘述正確？
 (A)清帝國初期臺灣與中國大陸的貿易，最初以艋舺為唯一合法港口。
 (B)隨著和中國大陸貿易發展，至清帝國晚期出現「一府二鹿三艋舺」的都市體系。
 (C)臺灣商人欲往泉州貿易，應該參加泉郊組織。
 (D)臺灣和中國大陸的經濟分工，臺灣出售紡織品等日用品，從中國大陸購入稻米、蔗糖。
- 45.() 溫馨發現同學撰寫的報告錯誤百出，如下所示，只有哪一段完全正確？

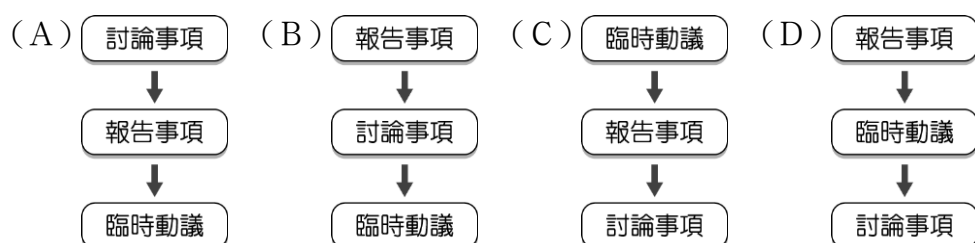
第一段：根據《原住民族基本法》，查找「部落」的意義。
 第二段：由於各部落的生活空間經常遷移，管轄區域並不固定。
 第三段：召開部落會議，由政府官員主持會議過程。
 第四段：部落領袖產生的方式，各族均是由家族世襲，因此權力控制穩定。

- (A)第一段 (B)第二段 (C)第三段 (D)第四段。
- 46.() 花蓮縣西林國小讓太魯閣族部落原貌再現，以族內傳統工法在校園內搭建一座高達 6 公尺的瞭望臺，並藉由這座瞭望臺帶領學生學習傳統太魯閣族文化，了解老祖先的智慧，期待孩子們能建立對部落文化的認同感。根據上述，下列哪種作法具有相同的目的？(A)設置母語課程(B)舉辦校外教學(C)選舉優良學生(D)進行游泳訓練。
- 47.() 我國政府推動「原住民族部落活力計畫」，這項計畫見證我國為保護原住民族文化所做的努力。請問：該計畫與下列何者的意義最相近？(A)我國族群多元，為避免衝突頻繁，應尊崇漢人主流文化 (B)所有族群都應受到重視，我們必須捍衛公平正義的價值 (C)社會和諧有賴公民共同努力，因此可犧牲部分族群權益 (D)其他族群因原住民族受保障而權益受損。
- 48.() 連慈蒐集右側的報導做為報告的案例，她報告內容應與下列何者最相關？
 (A)家庭暴力 (B)校園霸凌 (C)刻板印象 (D)性別歧視。
- 49.() 報紙專欄刊出一篇社論如下，針對社論提出的問題，下列何人的回應較為適當？

社會新聞
 一名國中生遭班上同學惡意排擠，並以物品丟擲攻擊，導致該生恐懼上學，夜不成眠。

社論專欄
 再度有原住民族因使用槍枝狩獵保育類動物而遭到判刑。雖然法律是具有強制力的規範，但若與原住民族傳統狩獵文化發生衝突時，究竟孰輕孰重，兩者間的矛盾應如何解決？

- (A) 蓁蓁：法律不能剝奪人權，應允許原住民族無限制進行狩獵。
 (B) 郁郁：原住民族應發動抗爭廢除法律，爭取特權以維護傳統狩獵文化。
 (C) 靖靖：原住民族應與政府協調溝通，尋求法律與傳統之間的平衡。
 (D) 楠楠：法律之前人人平等，政府不應允許原住民族持有任何槍枝。
- 50.() 或爰要把開會流程抄在黑板上，但她搞混了流程順序。請問：下列哪一個流程順序正確？



花蓮縣立吉安國民中學 112 學年度第一學期 七年級社會科 第 3 次段考答案

1	2	3	4	5	6	7	8	9	10
C	D	B	A	C	B	D	B	A	A
11	12	13	14	15	16	17	18	19	20
C	D	D	B	D	B	B	A	C	B
21	22	23	24	25	26	27	28	29	30
A	D	A	C	B	C	A	A	B	A
31	32	33	34	35	36	37	38	39	40
D	A	B	C	C	D	B	D	B	D
41	42	43	44	45	46	47	48	49	50
D	D	B	C	A	A	B	B	C	B