

花蓮縣立吉安國民中學 112 學年度第 1 學期第三次段考八年級社會科題目卷

八年__班 座號: ____ 姓名: _____

一、選擇題：每題2分，共90分。（作答方式：劃記答案卡）

- 1 自從國民政府遷台至今，一共發布了 4 次緊急命令，解嚴前後各發布過 2 次，最近的一次是 921 地震，依據目前法規規定，發布緊急命令的運作流程，「不包括」下列哪一個機關？
(A)總統 (B)立法院 (C)監察院 (D)行政院。
- 2 以下是一則新聞，「監察院指出，教育部推動校園無障礙政策至今，不合格率達 27%，改善成效亟待檢討，且統計資料正確性不足，經監察委員提出調查報告，監察院通過對教育部提出※※，並函請教育部偕同內政部營建署，督同各地方政府及所屬學校確實檢討改進。」，根據新聞內容，※※所指應是下列何者？(A)糾舉 (B)糾正 (C)質詢 (D)彈劾。
- 3 小傑參觀憲法法庭並聽取簡報，簡報人員說明在此地處理的事項，請問「不可能」有下列何者？
(A)審理各種訴訟案件 (B)審理政黨違憲的解散案件
(C)審理正副總統彈劾案 (D)解釋憲法、統一解釋法律與命令。
- 4 下列為公務員懲戒法第 23 條條文，條文中「□□」、「■ ■」分別應是下列何組？
- | |
|--|
| 第 23 條
□□院認為公務員有第**條所定情事，應付懲戒者，應將■ ■案連同證據，移送懲戒法院審理。 |
|--|
- (A)監察、彈劾 (B)監察、糾舉
(C)司法、彈劾 (D)司法、糾舉。
- 5 根據報載，「○○區公所關懷弱勢家庭，在全區 7 個據點同步發放 10 萬公斤的愛心米，凡戶籍設在該區低收入戶、中低收入戶、弱勢兒少、中低老人、中低身障等每戶 15 公斤白米，受惠的弱勢家庭高達 9267 戶。」上述新聞舉辦地點最有可能為下列何者？
(A)新竹縣 (B)花蓮市 (C)桃園市 (D)屏東市。
- 6 行政院日前核定「臺北市公廁環境衛生管理自治條例」，成為全國首部把公廁管理納入法制化的地方自治專法。有關上述自治條例的敘述，何者正確？
(A)經立法院三讀通過 (B)規範範圍擴及全國
(C)由台北市議會制定 (D)立法後由總統公布。
- 7 智媛將中央政府官員產生方式，製作於右表，根據表中內容判斷，何者配對正確？
- | | |
|--------------------------|---|
| (A)甲己 (B)甲戊 (C)乙戊 (D)丙丁。 | 甲.審計長 乙.教育部長 丙.立法院院長
丁.行政院長提請總統任命
戊.總統提名經立法院同意後任命
己.經由選舉方式產生 |
|--------------------------|---|
- 8 以下幾項政治參與，何者是國中生可以進行的？
(A)上街宣傳 18 歲公民權重要性 (B)針對公共政策，進行公民投票，表達贊成或反對
(C)參與選舉，競選里長，組織競選團隊 (D)為支持的總統候選人投下關鍵一票，在家觀賞開票。
- 9 關於投票的原則，請問以下敘述何者正確？
(A)投票的歷史中，婦女一剛開始沒有投票權=>違反平等原則
(B)蔡英文總統跟吉安國中的老師，投票時每個人都只有一票=>遵守平等原則

- (C)進入投開票所，不得使用手機，也不能亮票=>遵守直接原則
 (D)投票的時候，由選民親自投下神聖的一票=>遵守無記名原則。

10 下列選票為某項公職人員選舉的選票之一。請問：關於此項公職人員選舉的敘述下列何者正確？

- (A)每一個選區只選出一位區域立委
 (B)得票比例超過 5%的政黨才能分配席次
 (C)此為政黨票，決定區域立委的席次
 (D)「兩票制」即政黨票代表兩票。



11 成成、阿五、君君三人的居住地資料如附表，近日三人分別向當地選出的民意代表陳情，希望他們能反映民情。根據表中資料判斷，此三人所陳情的對象，最可能分別為下列何者？

- (A)甲：市民代表，乙：市議員，丙：立法委員
 (B)甲：立法委員，乙：市民代表，丙：市議員
 (C)甲：市議員，乙：市民代表，丙：立法委員
 (D)甲：市議員，乙：立法委員，丙：市民代表。

居民	居住地	陳情對象
成成	高雄市	甲
阿五	新竹市	乙
君君	彰化市	丙

12 右圖是中央選舉委員會所公告的海報，提醒民眾年滿 18 歲就有公民投票權。下列對公民投票的相關敘述，何者正確？

- (A)公民投票依據《選舉罷免法》規定辦理
 (B)公民投票主要目的在選出理想的候選人
 (C)公民投票能激發民眾對公共事務的參與感
 (D)公民投票主要在落實人民的創制權及罷免權。



13 在我國，關於政府預算及決算的經費流程，甲、編列預算；乙、審查預算；丙、執行預算；丁、審核決算。請問：哪些是屬於同一個機關的職權？ (A)甲乙 (B)丙丁 (C)甲丙 (D)乙丁。

14 下列哪一位首長的主張最符合自己的身分？

- (A)行政院院長：「針對窒礙難行的法律提出覆議。」
 (B)司法院院長：「要求全國警察機關全力改善國內治安。」
 (C)考試院院長：「主動調查公務人員是否違法失職而予以彈劾。」
 (D)監察院院長：「督促院內法官們秉守司法公正審理的精神。」

15 下列有關立法院提案權的敘述，何者有誤？

- (A)提出憲法修正案，交由公民投票複決 (B)提出正副總統彈劾案，送交監察院審理
 (C)提出領土變更案，交付公民投票複決 (D)提出正副總統罷免案，交付公民投票決定。

16 日前高雄城中城大樓大火，造成嚴重死傷，引發各界對《消防法》修法的討論。修法流程如下：(甲)審議《消防法》部分條文修正案，若三讀通過須由(乙)公布，並由(丙)來推動。請問甲、乙、丙依序為？ (A)行政院、總統、立法院 (B)司法院、立法院、行政院 (C)立法院、行政院、總統 (D)立法院、總統、行政院。

17 小池看見媒體的一段新聞節錄，深覺疑惑。後來才發現議員可能**忽略**了下列哪一個原則？

議員：針對共軍頻繁擾台及兵役是否延長一事，您有何看法與作為？

市長：針對這個議題雖攸關台灣老百姓的權益，可以表達我的想法但非我所能決定的權限。

(A)權力分立 (B)均權制度 (C)政治參與 (D)有限政府。

18 日本人將黑船事件視為促使國家走向富強的關鍵，請問原因應為下列何者？

(A)日本受刺激後，開始進行大化革新

(B)日本與美國建交，建立軍事結盟關係

(C)日本成功驅逐培里的軍艦，使美國俯首稱臣

(D)受外力入侵的刺激，明治天皇掌權後推行西化改革。

19 十九世紀後半期，當日本國力漸增後，便積極對外擴張。請問下列日本對外侵略行為何者正確？

(A)牡丹社事件出兵琉球 (B)日俄戰爭出兵中國山東

(C)甲午戰爭前積極介入朝鮮內政 (D)牡丹社事件後併吞臺灣。

20 時局圖是中國近代史的一幅時事漫畫，最早刊登於 1898 年的香港報紙。當時中國被列強要求租借港灣，劃分勢力範圍，瀕臨被瓜分的危機，於是作者繪製此圖以警醒國人。請問列強對中國侵略加劇，主要是在哪一場戰爭之後？

(A)鴉片戰爭 (B)英法聯軍 (C)甲午戰爭 (D)八國聯軍。



21 三達以交換學生的身份到北京大學參訪，接待他的同學說：「我校歷史悠久，前身是京師大學堂……。」接待學生滔滔不絕地介紹北京大學的相關歷史，請問京師大學堂是成立於何時？

(A)自強運動 (B)明治維新 (C)戊戌變法 (D)庚子後新政。

22 銀優翻月曆發現 6 月 9 日被訂為鐵路節，這一天是被稱作「鐵道之父」、「蒸汽火車發明者」、「標準軌道定義者」的英國人喬治·史蒂芬生的誕辰，然而在 1881 年的同日，也是第一條被清政府批准的鐵路——唐胥鐵路的開工日，鐵路建設是現代化發展過程中，重要的成就之一。請問唐胥鐵路的建設，與下列何者關係密切？

(A)自強運動 (B)戊戌變法 (C)庚子後新政 (D)立憲運動。

23 若曦平時沈迷於閱讀穿越小說及觀看穿越劇，沒想到晚上睡覺居然夢見自己穿越時空到 19 世紀末的上海，成為當時女權意識抬頭的新時代女性，請問下列場景何者不該出現在若曦的夢中？

(A)前往國外留學 (B)搭乘電車到附近公園遊覽

(C)在法國租界吃西餐 (D)因為纏足，只能在家相夫教子。

24 中國女報的創辦人秋瑾曾奉父母之命，與門當戶對的王廷鈞結婚。但二人婚後卻在思想上出現極大落差，王廷鈞從小苦讀儒家經典，奉行中國傳統倫理道德，秋瑾卻是個思想前衛的時代新女性，曾因穿著男裝去看戲而造成社會轟動。最後秋瑾毅然選擇離婚，赴日留學進修，過著獨立自主的生活，追求實現自我的人生。請問秋瑾的選擇可反映出清末民初什麼風氣？

- (A)仇視洋人與基督教 (B)個人與家族的關係開始轉變
(C)城市工商業開始發展 (D)儒家思想在中國根深蒂固的地位。

25 中國向來自視為「天朝」，其他諸國則為「蠻夷番邦」，這樣的觀念在明清時代達到最高峰。但隨著世界局勢變化，到清末時已不得不放棄這樣的思想，轉而加入平等往來的現代國際關係中。請問以下哪個事件最能展現出清政府外交思想的轉變？

- (A)實施戊戌變法 (B)爆發鴉片戰爭 (C)推行君主立憲 (D)設立總理各國事務衙門。

26 清末知識份子曾評價某事件：「這些人自稱為國為民，但是卻到處殺害別人的人民，破壞租界與教堂，將來必定會引起列強報復，趁機侵占我土地；屠戮我百姓。哎呀，這些人的行為可說是國民之公敵啊！」請這位知識分子評價的事件應為何者？

- (A)甲午戰爭 (B)義和團事件 (C)戊戌政變 (D)革命運動。

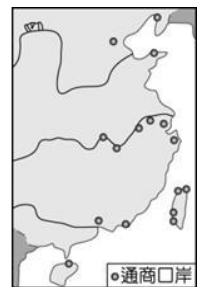
27 馬關條約中允許日人可在通商口岸設廠製造商品，後來其他西方列強也紛紛來華設廠，請問：其他西方列強又沒有簽訂馬關條約，卻能比照日本在華設廠製造是因為下列哪一項特權而能利益均霑？(A)協定關稅 (B)領事裁判權 (C)畫分勢力範圍 (D)片面最惠國待遇。

28 圖(一)與圖(二)是清末時期對外開放通商口岸的演變情形。請問：圖(二)增開臺灣、長江沿岸與北方各地的通商口岸與下列哪一場戰爭有關？

- (A)甲午戰爭 (B)日俄戰爭 (C)清法戰爭 (D)英法聯軍。



圖一



圖二

29 下是關於「中國面對西力衝擊及其反應」的描述：(甲)鴉片戰爭→展開自強運動；(乙)清法戰爭→義和團扶清滅洋；(丙)八國聯軍→推行庚子後新政；(丁)日俄戰爭→興起立憲運動風潮。請問：敘述錯誤的有哪些？(A)甲乙 (B)丙丁 (C)甲丙 (D)乙丙。

30 附圖為 20 世紀某兩大國為爭奪中國東北發生戰爭時，刊登在當時美國《Puck 雜誌》的諷刺漫畫。請問：這幅漫畫描繪的是哪一個戰爭且因受到此戰爭之刺激，朝野人士要求推動什麼西化運動？

- (A)鴉片戰爭，庚子後新政
(B)英法聯軍，自強運動
(C)甲午戰爭，戊戌變法
(D)日俄戰爭，立憲運動。



31 下列是敘俊主演的歷史劇部分劇本內容，請根據內容判斷，其歷史背景應與何者有關？

第一幕：〔旁白〕油燈微弱的光芒，映照出譚嗣同和梁啟超憂愁的面容。

梁啟超無奈地說：「聽說皇上已經被太后軟禁了……。嗣同，還是一起走吧！」譚嗣同聽了，心裡像刀割一樣地難受。「我已無事可辦，惟待死期而已。你不必再勸我。」譚嗣同從容地說。

- (A)日軍侵臺 (B)立憲運動 (C)自強運動 (D)戊戌政變。

32 上海百年飯店浦江飯店正式歇業裝修，改裝成證券博物館。浦江飯店由英國蘇格蘭籍僑民彼得禮查於 1846 年創立，為全中國第一家西式酒店，被譽為「上海著名的里程碑建築」。此間 170 年的傳奇飯店曾創下許多歷史，卓別林、愛因斯坦等名人都曾入住過。下列何者**最不可能**為此間飯店所經歷的歷史？

- (A)鴉片戰爭期間列強曾占領此地 (B)見證現代電報線的開通
(C)是第一批使用自來水的西式旅館 (D)中國第一盞電燈在這裡亮起。

33 珉豪為了準備歷史報告，上網查詢相關資料。下列是他在搜尋網站上所搜尋到的資料。他所查詢的應該是哪一報刊的歷史？

原名教會新報，1868 年於上海創刊，主辦人為美國傳教士林樂知，以林華書院的名義出版。起初為宗教性質刊物，著重刊登闡釋教義的文章，以及溝通教徒、教友情況的「各地教友來信」等。1874 年改名後，報刊內容始轉為涉及政治時事、中外關係、教育、科學等議題，有助於民眾對於西方思潮的接觸與理解。

- (A)申報 (B)萬國公報 (C)點石齋畫報 (D)飛影閣畫報。

34 近代清、日兩國面對西方勢力的衝擊，都做出了回應，有關這段歷史的敘述，下列哪個選項**錯誤**？

選項	清朝	日本
(A)最早面對的西方勢力	美國	英國
(B)引發事件	鴉片戰爭	黑船事件
(C)造成結果	被迫開港通商	被迫開港通商
(D)導火線	林則徐查禁鴉片	培里率軍艦來日本

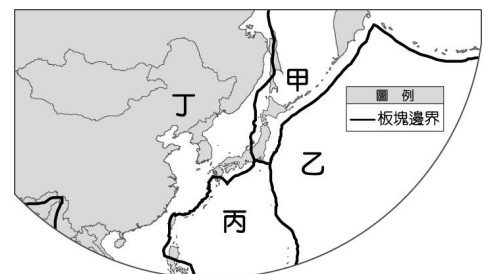
35 清廷沒有對外貿易的興趣，因此自康熙以來，只在沿海地區開放了四個對外貿易港，讓「番邦之國」有管道取得中國的絲綢、茶葉、瓷器等物品，算是天朝上國的一種恩賜。之後，更是將貿易港口縮減到只剩圖中哪一個地點？

- (A)甲 (B)乙 (C)丙 (D)丁。



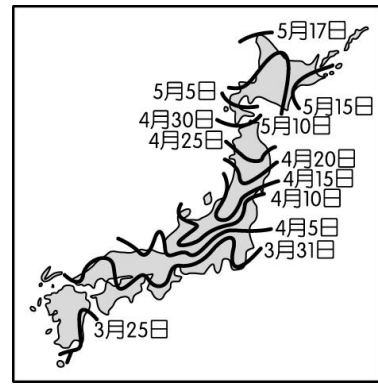
36 參考附圖，2024 年 1 月 1 日日本石川縣能登半島發生大地震並引起海嘯，成因是哪兩個板塊間的擠壓？

- (A)甲丁 (B)乙丁 (C)甲乙 (D)乙丙。



37 參考附圖，此圖最可能是何種現象的日期示意圖？

- (A) 楓葉轉紅日期
- (B) 櫻花綻放日期
- (C) 開始下雪日期
- (D) 冷氣團侵襲日期



38 下列關於日本地形的敘述何者正確？

- (A) 山多平原少
- (B) 多為沙岸少港灣
- (C) 主要山脈偏東
- (D) 西側多平原。

39 日本四大島嶼中，何者冬季平均氣溫應為最高？ (A) 本州 (B) 北海道 (C) 九州 (D) 四國。

40 下列何者**不是**中國與北韓的國界？ (A) 鴨綠江 (B) 長白山脈 (C) 圖們江 (D) 太白山脈。

41 朝鮮半島以何區域地勢最高？ (A) 西南 (B) 東南 (C) 西北 (D) 東北

42 根據某年全球財經權威機構—彭博社 (Bloomberg) 的統計顯示，朝鮮半島上兩韓經濟數據如表一所示，請問：造成北韓經濟發展落後的主要原因不包括下列何者？

- (A) 礦產資源匱乏
- (B) 實施專制獨裁的共產主義
- (C) 重視國防工業，輕忽民生
- (D) 發展核武，遭到國際經濟制裁。

43 中國華北平原、朝鮮半島、日本本州島的緯度相近，若由西向東排列，請問三者的氣候條件有什麼變化？

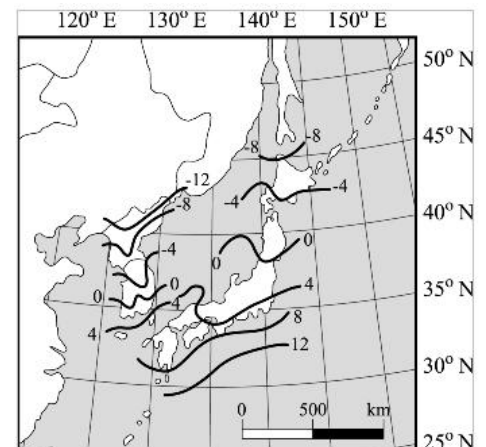
- (A) 年雨量逐漸減少
- (B) 年溫差逐漸增加
- (C) 年溫差逐漸減少
- (D) 三者都是溫帶季風氣候，年雨量、年溫差皆相同，沒有差異。

44 第二次世界大戰後，朝鮮半島大致以何界線劃分北韓與南韓？

- (A) 23.5°N
- (B) 38°N
- (C) 66.5°N
- (D) 85°N。

45 東北亞主要包括日本群島與朝鮮半島，兩者位置接近但在氣候上卻不相同，附圖為東北亞地區一月等溫線的分布。日本群島一月 0°C 等溫線的位置較朝鮮半島高出將近 5° 的緯度，亦即日本的氣候較為溫暖。請問：造成此種現象的主因為何？

- (A) 地勢高低
- (B) 緯度變化
- (C) 降水多寡
- (D) 黑潮流經。




花蓮縣立吉安國民中學 112 學年度第 1 學期第三次段考八年級社會科題目卷

八年__班 座號: ____ 姓名: _____

二、素養題: 共 10 分。(作答方式: 書寫答案並繳回答案卷)

※以下為立法委員選舉公報，請回答以下問題

號次·姓名	學歷	經歷
<p style="text-align: center;">2</p> <p style="text-align: center;">李小勳</p> 	○○大學畢	○○大學學生會會長 ○○大學校友會會長
	政見	
基本資料		
出生年月日: □年 1 月 1 日		
性別: 男		
出生地: 花蓮縣		
推薦之政黨		
無		

1. 請根據立法院的職責，替參加立法委員選舉的小勳寫出三點合理的政見。

(6 分)

2. 小勳剛好符合可以參選立法委員的最低年齡限制，若選舉日期為 113 年 1 月 13 日，附圖中的□為多少？(2 分)

3. 下圖為東北亞地區，請在圖上畫出並標示冬季、夏季季風的風向。(2 分)

